

رياضيات

الصف الأول

الوحدة استراتيجيات الجمع

حتى العدد 20

3

النشاط الخامس عشر:

كون 10 واجمع

اسمي: _____
واثر الإطار العشري الوهودة في البطاقة، ثم ارسها وبنفس اللون في ورقة
اكتب الجلة العددية ثم جد الناتج.

ع.

10	+	8	=	18
----	---	---	---	----

ف.

10	+		=	
----	---	--	---	--

ك.

10	+		=	
----	---	--	---	--



www.e-portal.ae شروط استخدام منتجات البوابة التعليمية

شكراً جزيلاً على ثقتكم بأعمالنا ودعمكم لنا بشراء منتجات البوابة التعليمية www.e-portal.ae. إن إنشاء وإعداد الوسائل التعليمية هو شغفنا، ويسعدنا جداً أن نرى أعمالنا بين يدي المعلمين والطلاب. بمجرد شرائك للمورد فإنك توافق على شروط الاستخدام، ويخضع استخدامك لأي مورد السياسة والشروط المنصوص عليها في "شروط استخدام الموارد"، لذا يرجى منك قراءة شروط الاستخدام التالية بعناية.

- جميع موارد البوابة التعليمية من إعداد رفيعه خلفان السويدي، لذا فهي تحتفظ بجميع حقوق الملكية الفكرية لهذه الموارد، وللمشتري حقوق في استخدام هذه الموارد وفق الرخصة الفردية، ونعني بالرخصة الفردية هي للمشتري حق في استخدام المورد وفق الاستخدام المسموح لـ "شروط استخدام الموارد" بصفته فرد مشتري للمورد، وتذكر أنه عند شرائك للمنتج فإنك تشتري ترخيص فردي، أي استخدام المورد لشخص واحد فقط، إذا رغبت بمشاركة معلم آخر للمورد عليك أن تشتري ترخيص إضافي له.
- الموارد في البوابة التعليمية نوعان من حيث الصيغة، PDF و Ppsx، فعند شرائك لموارد البوابة التعليمية، فإنك ستحتفظ بهذه الملفات في حسابك في الموقع من خلال "ملفاتي"، فالموارد التي هي بصيغة PDF ستتمكن من الاحتفاظ بها مدى الحياة في الموقع وطباعتها في أي وقت وفق الاستخدام المسموح والمنصوص عليه في شروط استخدام الموارد، بينما المنتجات التي هي بصيغة Ppsx ستتمكن من تنزيلها على جهازك بهدف عرضها واستخدامها مع طلابك وفق الاستخدام المسموح والمنصوص عليه في شروط استخدام الموارد.

الاستخدام المسموح: بصفتك مشتري لترخيص فردي، سيسمح لك:

- أ. استخدام المنتج في غرفة التعلم لأغراض تعليمية.
- ب. يُسمح لك كمعلم بتصوير المنتج أثناء استخدامه من قبل طلابك وكذلك نشر الصور إن كان هدفك بيان فائدة المنتج أو إظهار إبداعك في التدريس.
- ج. طباعة وعمل نسخ للموارد وتزويدها لطلابك ومساعدتي الفصل والمعلم البديل حسب الضرورة.

الاستخدام غير المسموح: بصفتك مشتري لترخيص فردي:

- أ. لا يجوز إرسال أو مشاركة المنتج سواء يدوياً أو إلكترونياً مع معلمين آخرين، أو أصدقاء، وغيرهم والذي يعتبر انتهاكاً لقانون الاستخدام، عدا المنتجات المجانية.
 - ب. يحظر نسخ المنتج أو أي جزء منه ووضعها على الانترنت بأي شكل من الأشكال، (حتى إن كان موقعاً شخصياً أو موقع مدرسة، أو مدونة صف، أو أحد مواقع التواصل الاجتماعي).
 - ج. يحظر استخدام المنتج لأغراض تجارية، مثل شراء المنتج وطباعته بهدف بيعه، كما لا يجوز لك دمج المنتج أو جزء منه مع منتج آخر وبيعه.
 - د. لا يجوز مسح أو شطب جملة (جميع الحقوق محفوظة © 2020 البوابة التعليمية) أو اسم الموقع أو شعار الموقع إن وجد من على المنتج.
- سيتم اتخاذ الإجراءات القانونية ورفع دعوى قضائية على من ينتهك سياسة ترخيص الموارد والمنصوص عليها تحت "شروط استخدام الموارد".

للتواصل والاستفسار: info@e-portal.ae

يسرنا تواصلكم وشكراً لثقتكم مرة أخرى
رفيعه السويدي

كُون 10 واجمع

نشاط يتألف من:


- 24 بطاقة لجمع دوائر الإطار العشري، موزعة على 3 أوراق (أ - م)
- 3 أوراق لتسجيل البيانات (لكل 8 بطاقات ورقة)

تجهيز النشاط:

1. اطبع البطاقات وغلفها حرارياً.
2. قص البطاقات مستعيناً بالخط الفاصل بينها لتحصل على 24 بطاقة.
3. اشبك البطاقات معاً باستخدام الحلقة المعدنية، بحيث تكون البطاقات (أ-د) معاً في مجموعة، والبطاقات (ذ-ط) معاً في مجموعة، والبطاقات (ظ-م) في مجموعة ثالثة.
4. اطبع أوراق تسجيل البيانات.

تنفيذ النشاط:

1. يقوم الطالب بالاطلاع وعد دوائر الإطار العشري في البطاقة.
2. يرسم الطالب دوائر الإطار العشري في جدول ورقة تسجيل البيانات ولكن بتكوين العدد 10.
3. يكتب جملة الجمع التي تضم العدد 10 ويوجد ناتج الجمع.



ملاحظات:

- النشاط جماعي تمارسه 3 مجموعات
- يمكنك تكرار طباعة النشاط ليتم تنفيذه من قبل مجموعات طلابية أكثر.
- النشاط مناسب للدرس 7 "تكوين 10 للجمع" في الوحدة 3 من كتاب الرياضيات المتكاملة للصف الأول.

A girl with dark skin and curly hair, wearing a blue bow in her hair, holds a 5x5 grid. The grid contains 10 blue dots in the top two rows and 5 pink dots in the third row. The bottom two rows are empty.

www.e-portal.de 2022 ©

A boy with dark skin holds a 5x5 grid. The grid contains 10 blue dots in the top two rows and 2 orange dots in the third row. The bottom two rows are empty.

www.e-portal.de 2022 ©

A girl with light skin and blonde hair, wearing a purple bow in her hair, holds a 5x5 grid. The grid contains 5 pink dots in the top row, 5 pink dots in the second row, and 5 green dots in the third row. The bottom two rows are empty.

www.e-portal.de 2022 ©

A girl with dark skin and long black hair holds a 5x5 grid. The grid contains 5 orange dots in the top row, 5 orange dots in the second row, and 5 red dots in the third row. The bottom two rows are empty.

www.e-portal.de 2022 ©

A girl with light skin and blonde hair holds a 5x5 grid. The grid contains 5 purple dots in the top row, 5 purple dots in the second row, 5 yellow dots in the third row, and 5 yellow dots in the fourth row. The bottom row is empty.

www.e-portal.de 2022 ©

A boy with light skin and orange hair holds a 5x5 grid. The grid contains 5 green dots in the top row, 5 green dots in the second row, 5 orange dots in the third row, and 5 orange dots in the fourth row. The bottom row is empty.

www.e-portal.de 2022 ©

A boy with light skin and brown hair holds a 5x5 grid. The grid contains 5 brown dots in the top row, 5 brown dots in the second row, 5 orange dots in the third row, and 5 orange dots in the fourth row. The bottom row is empty.

www.e-portal.de 2022 ©

A girl with dark skin and braided hair, wearing green bows in her hair, holds a 5x5 grid. The grid contains 5 red dots in the top row, 5 red dots in the second row, 5 green dots in the third row, and 5 green dots in the fourth row. The bottom row is empty.

www.e-portal.de 2022 ©

A boy with dark skin holds a 5x5 grid. The grid contains 5 blue dots in the top row, 5 blue dots in the second row, and 3 brown dots in the third row. The bottom two rows are empty.

www.e-portal.de 2022 ©

١

www.e-portal.ae 2022 ©

٢

www.e-portal.ae 2022 ©

٣

www.e-portal.ae 2022 ©

٤

www.e-portal.ae 2022 ©

٥

www.e-portal.ae 2022 ©

٦

www.e-portal.ae 2022 ©

٧

www.e-portal.ae 2022 ©

٨

www.e-portal.ae 2022 ©

٩

www.e-portal.ae 2022 ©

3

www.e-portal.ae 2022 ©

9

www.e-portal.ae 2022 ©

9

www.e-portal.ae 2022 ©

4

www.e-portal.ae 2022 ©

9

www.e-portal.ae 2022 ©

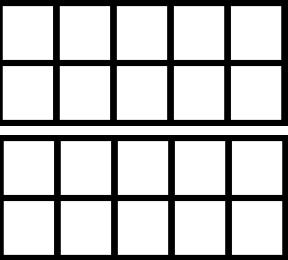







4

www.e-portal.ae 2022 ©

كُون 10 واجمع

اسمي: _____


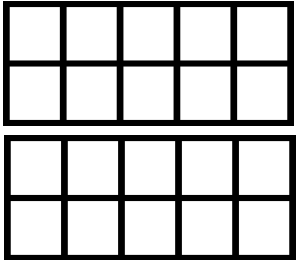



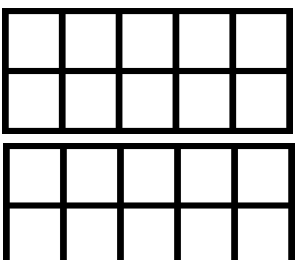


استعن ببطاقات النشاط: عد دوائر الإطار العشري الهجورة في البطاقة، ثم ارسها وبنفس اللون في ورقة التسجيل ولكن بتكوين العدد 10. اكتب الجهة العددية ثم جد الناتج.

<p>ب.</p>  $\begin{array}{r} 10 \\ + \square \\ \hline \square \end{array}$	<p>أ.</p>  $\begin{array}{r} 10 \\ + \square \\ \hline \square \end{array}$
<p>ث.</p>  $\begin{array}{r} 10 \\ + \square \\ \hline \square \end{array}$	<p>ت.</p>  $\begin{array}{r} 10 \\ + \square \\ \hline \square \end{array}$
<p>ج.</p>  $\begin{array}{r} 10 \\ + \square \\ \hline \square \end{array}$	<p>ح.</p>  $\begin{array}{r} 10 \\ + \square \\ \hline \square \end{array}$
<p>د.</p>  $\begin{array}{r} 10 \\ + \square \\ \hline \square \end{array}$	<p>خ.</p>  $\begin{array}{r} 10 \\ + \square \\ \hline \square \end{array}$

كُون 10 واجمع

اسمي: _____

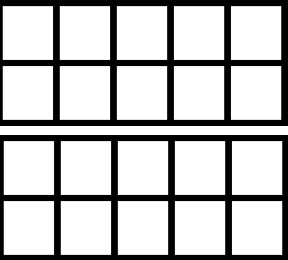







استعن ببطاقات النشاط: عد دوائر الإطار العشري الوجودية في البطاقة، ثم ارسها وبنفس اللون في ورقة التسجيل ولكن بتكوين العدد 10. اكتب الجهة العددية ثم جد الناتج.

<p>ر.</p>  $\begin{array}{r} 10 \\ + \square \\ \hline \square \end{array}$	<p>ذ.</p>  $\begin{array}{r} 10 \\ + \square \\ \hline \square \end{array}$
<p>س.</p>  $\begin{array}{r} 10 \\ + \square \\ \hline \square \end{array}$	<p>ز.</p>  $\begin{array}{r} 10 \\ + \square \\ \hline \square \end{array}$
<p>ص.</p>  $\begin{array}{r} 10 \\ + \square \\ \hline \square \end{array}$	<p>ش.</p>  $\begin{array}{r} 10 \\ + \square \\ \hline \square \end{array}$
<p>ط.</p>  $\begin{array}{r} 10 \\ + \square \\ \hline \square \end{array}$	<p>ض.</p>  $\begin{array}{r} 10 \\ + \square \\ \hline \square \end{array}$

كوّن 10 واجمع

اسمي: _____

استعن ببطاقات النشاط: عد دوائر الإطار العشري الوجودية في البطاقة، ثم ارسها وبنفس اللون في ورقة التسجيل ولكن بتكوين العدد 10. اكتب الجهلة العددية ثم جد الناتج.

<p>ع.</p>  $\begin{array}{r} 10 \\ + \square \\ \hline \square \end{array}$	<p>ظ.</p>  $\begin{array}{r} 10 \\ + \square \\ \hline \square \end{array}$
<p>ف.</p>  $\begin{array}{r} 10 \\ + \square \\ \hline \square \end{array}$	<p>غ.</p>  $\begin{array}{r} 10 \\ + \square \\ \hline \square \end{array}$
<p>ك.</p>  $\begin{array}{r} 10 \\ + \square \\ \hline \square \end{array}$	<p>ق.</p>  $\begin{array}{r} 10 \\ + \square \\ \hline \square \end{array}$
<p>م.</p>  $\begin{array}{r} 10 \\ + \square \\ \hline \square \end{array}$	<p>ل.</p>  $\begin{array}{r} 10 \\ + \square \\ \hline \square \end{array}$

للاطلاع على الملف التوضيحي لموارد الوحدة 3 في رياضيات الصف الأول

[انقر هنا](#)

www.e-portal.ae شروط استخدام منتجات البوابة التعليمية

شكراً جزيلاً على ثقتكم بأعمالنا ودعمكم لنا بشراء منتجات البوابة التعليمية www.e-portal.ae. إن إنشاء وإعداد الوسائل التعليمية هو شغفنا، ويسعدنا جداً أن نرى أعمالنا بين يدي المعلمين والطلاب. بمجرد شرائك للمورد فإنك توافق على شروط الاستخدام، ويخضع استخدامك لأي مورد السياسة والشروط المنصوص عليها في "شروط استخدام الموارد"، لذا يرجى منك قراءة شروط الاستخدام التالية بعناية.

- جميع موارد البوابة التعليمية من إعداد رفيعه خلفان السويدي، لذا فهي تحتفظ بجميع حقوق الملكية الفكرية لهذه الموارد، وللمشتري حقوق في استخدام هذه الموارد وفق الرخصة الفردية، ونعني بالرخصة الفردية هي للمشتري حق في استخدام المورد وفق الاستخدام المسموح لـ "شروط استخدام الموارد" بصفته فرد مشتري للمورد، وتذكر أنه عند شرائك للمنتج فإنك تشتري ترخيص فردي، أي استخدام المورد لشخص واحد فقط، إذا رغبت بمشاركة معلم آخر للمورد عليك أن تشتري ترخيص إضافي له.
- الموارد في البوابة التعليمية نوعان من حيث الصيغة، PDF و Ppsx، فعند شرائك لموارد البوابة التعليمية، فإنك ستحتفظ بهذه الملفات في حسابك في الموقع من خلال "ملفاتي"، فالموارد التي هي بصيغة PDF ستتمكن من الاحتفاظ بها مدى الحياة في الموقع وطباعتها في أي وقت وفق الاستخدام المسموح والمنصوص عليه في شروط استخدام الموارد، بينما المنتجات التي هي بصيغة Ppsx ستتمكن من تنزيلها على جهازك بهدف عرضها واستخدامها مع طلابك وفق الاستخدام المسموح والمنصوص عليه في شروط استخدام الموارد.

الاستخدام المسموح: بصفتك مشتري لترخيص فردي، سيسمح لك:

- أ. استخدام المنتج في غرفة التعلم لأغراض تعليمية.
- ب. يُسمح لك كمعلم بتصوير المنتج أثناء استخدامه من قبل طلابك وكذلك نشر الصور إن كان هدفك بيان فائدة المنتج أو إظهار إبداعك في التدريس.
- ج. طباعة وعمل نسخ للموارد وتزويدها لطلابك ومساعدتي الفصل والمعلم البديل حسب الضرورة.

الاستخدام غير المسموح: بصفتك مشتري لترخيص فردي:

- أ. لا يجوز إرسال أو مشاركة المنتج سواء يدوياً أو إلكترونياً مع معلمين آخرين، أو أصدقاء، وغيرهم والذي يعتبر انتهاكاً لقانون الاستخدام، عدا المنتجات المجانية.
 - ب. يحظر نسخ المنتج أو أي جزء منه ووضعها على الانترنت بأي شكل من الأشكال، (حتى إن كان موقعاً شخصياً أو موقع مدرسة، أو مدونة صف، أو أحد مواقع التواصل الاجتماعي).
 - ج. يحظر استخدام المنتج لأغراض تجارية، مثل شراء المنتج وطباعته بهدف بيعه، كما لا يجوز لك دمج المنتج أو جزء منه مع منتج آخر وبيعه.
 - د. لا يجوز مسح أو شطب جملة (جميع الحقوق محفوظة © 2020 البوابة التعليمية) أو اسم الموقع أو شعار الموقع إن وجد من على المنتج.
- سيتم اتخاذ الإجراءات القانونية ورفع دعوى قضائية على من ينتهك سياسة ترخيص الموارد والمنصوص عليها تحت "شروط استخدام الموارد".

للتواصل والاستفسار: info@e-portal.ae

يسرنا تواصلكم وشكراً لثقتكم مرة أخرى
رفيعه السويدي

