

النشاط الثامن:

يمكنني تصميم الأشكال

قص ولصق

ب. بأشكال ثنائية الأبعاد.

14. املأ شبه المنحرف بأشكال ثنائية الأبعاد.

15. املأ الشكل الثماني بأشكال ثنائية الأبعاد.

17. املأ الشكل ثنائي الأبعاد.

18. املأ الشكل المركب بأشكال ثنائية الأبعاد.

www.e-portal.ae © 2022

جميع الحقوق محفوظة ©
تُبَاع النسخة إلكترونيًا عبر موقع البوابة التعليمية
www.e-portal.ae

شروط استخدام منتجات البوابة التعليمية www.e-portal.ae

شكراً جزيلاً على ثقتكم بأعمالنا ودعمكم لنا بشراء منتجات البوابة التعليمية www.e-portal.ae. إن إنشاء وإعداد الوسائل التعليمية هو شغفنا، ويسعدنا جداً أن نرى أعمالنا بين يدي المعلمين والطلاب.

بمجرد شرائك للمورد فإنك توافق على شروط الاستخدام، ويخضع استخدامك لأي مورد السياسة والشروط المنصوص عليها في "شروط استخدام الموارد"، لذا يرجى منك قراءة شروط الاستخدام التالية بعناية.

- جميع موارد البوابة التعليمية من إعداد رفيعه خلفان السويدي، لذا فهي تحتفظ بجميع حقوق الملكية الفكرية لهذه الموارد، وللمشتري حقوق في استخدام هذه الموارد وفق الرخصة الفردية، وتعني بالرخصة الفردية هي للمشتري حق في استخدام المورد وفق الاستخدام المسموح لـ "شروط استخدام الموارد" بصفته فرد مشتري للمورد، وتذكر أنه عند شرائك للمنتج فإنك تشتري ترخيص فردي، أي استخدام المورد لشخص واحد فقط، إذا رغبت بمشاركة معلم آخر للمورد عليك أن تشتري ترخيص إضافي له.
- الموارد في البوابة التعليمية نوعان من حيث الصيغة، PDF و Ppsx، فعند شرائك لموارد البوابة التعليمية، فإنك ستحتفظ بهذه الملفات في حسابك في الموقع من خلال "ملفاتي"، فالوارد التي هي بصيغة PDF ستتمكن من الاحتفاظ بها مدى الحياة في الموقع وطباعتها في أي وقت وفق الاستخدام المسموح والمنصوص عليه في شروط استخدام الموارد، بينما المنتجات التي هي بصيغة Ppsx ستتمكن من تنزيلها على جهازك بهدف عرضها واستخدامها مع طلابك وفق الاستخدام المسموح والمنصوص عليه في شروط استخدام الموارد.

الاستخدام المسموح: بصفتك مشتري لترخيص فردي، سيسمح لك:

أ. استخدام المنتج في غرفة التعلم لأغراض تعليمية.

ب. يُسمح لك كمعلم بتصوير المنتج أثناء استخدامه من قبل طلابك وكذلك نشر الصور إن كان هدفك بيان فائدة المنتج أو إظهار إبداعك في التدريس.

ج. طباعة وعمل نسخ للموارد وتزويدها لطلابك ومساعدتي الفصل والمعلم البديل حسب الضرورة.

الاستخدام غير المسموح: بصفتك مشتري لترخيص فردي:

أ. لا يجوز إرسال أو مشاركة المنتج سواء يدوياً أو إلكترونياً مع معلمين آخرين، أو أصدقاء، وغيرهم والذي يعتبر انتهاكاً لقانون الاستخدام، عدا المنتجات المجانية.

ب. يحظر نسخ المنتج أو أي جزء منه ووضعه على الانترنت بأي شكل من الأشكال، (حتى إن كان موقعاً شخصياً أو موقع مدرسة، أو مدونة صف، أو أحد مواقع التواصل الاجتماعي).

ج. يحظر استخدام المنتج لأغراض تجارية، مثل شراء المنتج وطباعته بهدف بيعه، كما لا يجوز لك دمج المنتج أو جزء منه مع منتج آخر وبيعه.

د. لا يجوز مسح أو شطب جملة (جميع الحقوق محفوظة © البوابة التعليمية) أو اسم الموقع أو شعار الموقع إن وجد من على المنتج.

سيتم اتخاذ الإجراءات القانونية ورفع دعوى قضائية على من ينتهك سياسة ترخيص الموارد والمنصوص عليها تحت "شروط استخدام الموارد".

للتواصل والاستفسار: info@e-portal.ae

يسرنا تواصلكم وشكراً لثقتكم مرة أخرى

رفيعه السويدي

يمكنني تصميم الأشكال

قص ولصق

يتألف النشاط من:

- 18 ورقة في تصميم الأشكال بحجم A5
- 18 ورقة قص الأشكال
- نماذج الحل

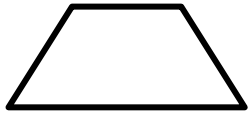
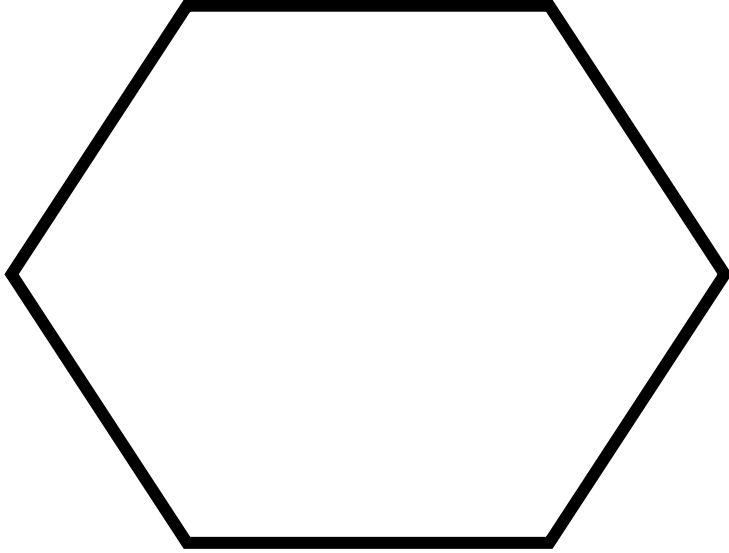
طريقة تجهيز النشاط:

1. اطبع أوراق لصق وتصميم الأشكال الهندسية.
 2. اطبع أوراق قص الأشكال على أوراق ملوثة،
 3. وقّر المقص والصمغ.
- يمكنك طباعة أوراق قص الأشكال على ورق أبيض ويقوم الطالب بتلوينها .
 - تم تخصيص ورقة قص الأشكال لكل ورقة لصق وتصميم الشكل وستساعدك الأرقام الموجودة عليها في التعرف على ذلك .
 - لا تلتزم بنماذج الحل الموجودة في النشاط، لربما قام الطالب بتصميم الشكل المطلوب بطريقة تختلف عن نموذج الحل (:


الهدف من النشاط، هو:

- أن يتمكن الطالب من تصميم شكل مركّب وتحديد الأشكال الهندسية المستخدمة في التصميم.

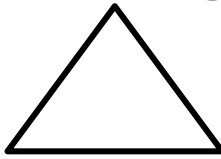
2. املأ الشكل السداسي بأشكال ثنائية الأبعاد.




_____ =




_____ =



_____ =



_____ =

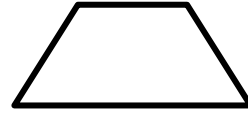
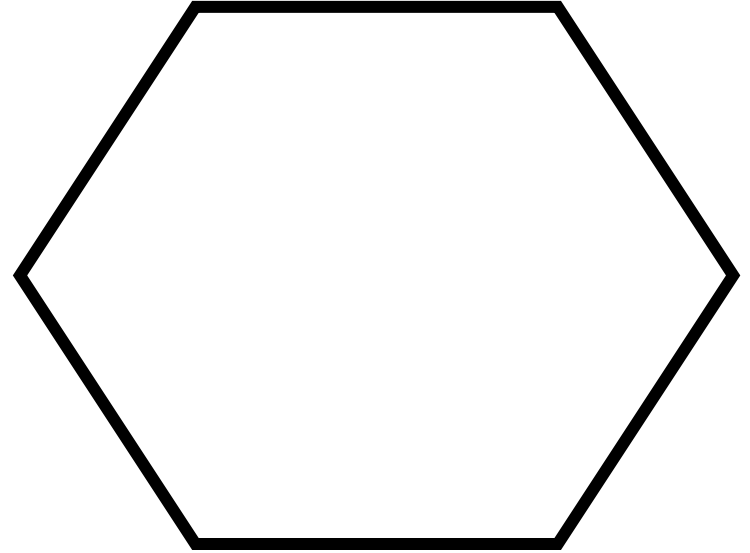


_____ =




_____ =

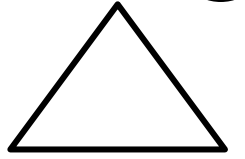
1. املأ الشكل السداسي بأشكال ثنائية الأبعاد.




_____ =




_____ =



_____ =



_____ =

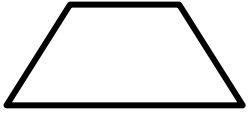


_____ =




_____ =

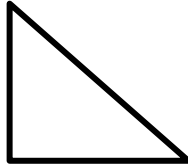
4. املأ المستطيل بأشكال ثنائية الأبعاد.




_____ =




_____ =



_____ =



_____ =


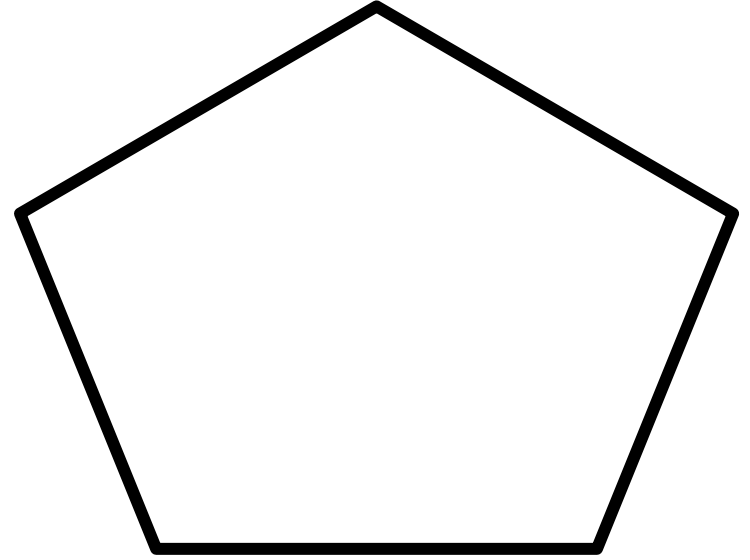


_____ =



_____ =

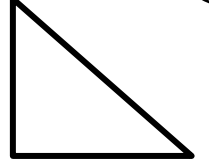
3. املأ الشكل الخماسي بأشكال ثنائية الأبعاد.



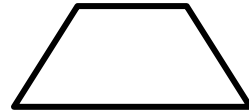
_____ =




_____ =



_____ =



_____ =

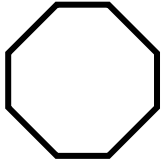



_____ =




_____ =


6. املأ الدائرة بأشكال ثنائية الأبعاد.




_____ =



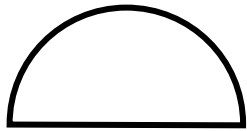
_____ =



_____ =



_____ =

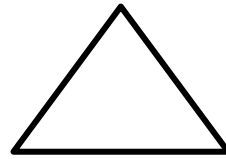



_____ =




_____ =

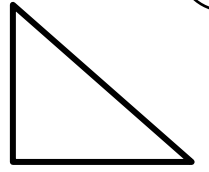
5. املأ المربع بأشكال ثنائية الأبعاد.



_____ =




_____ =



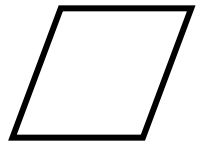
_____ =



_____ =

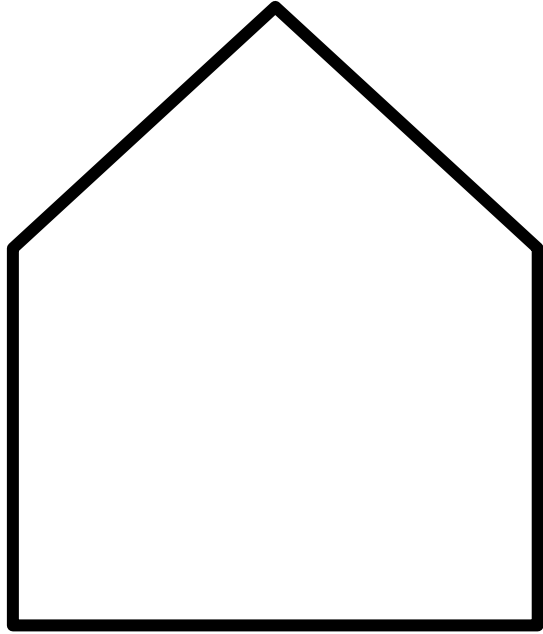


_____ =




_____ =


8. املأ الشكل المركب بأشكال ثنائية الأبعاد.



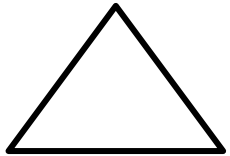
_____ =




_____ =



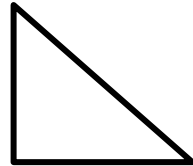
_____ =



_____ =

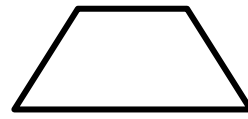
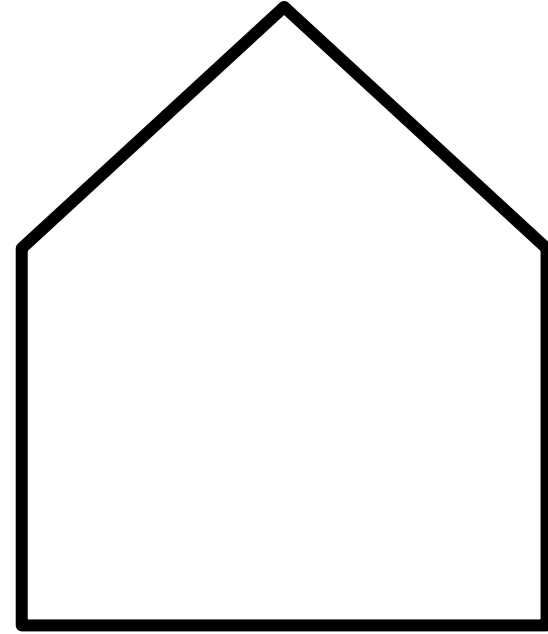


_____ =

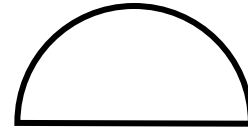


_____ =

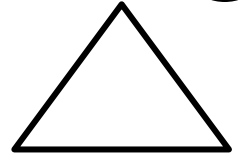
7. املأ الشكل المركب بأشكال ثنائية الأبعاد.




_____ =




_____ =



_____ =



_____ =

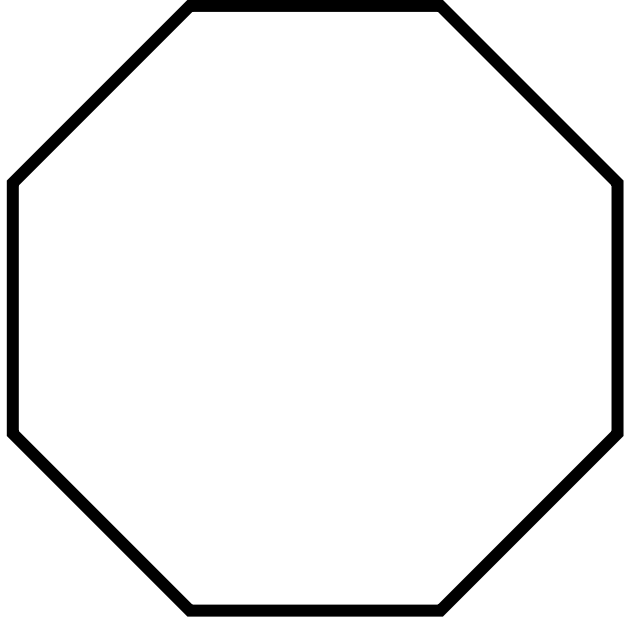


_____ =




_____ =


10. املأ الشكل الثماني بأشكال ثنائية الأبعاد.



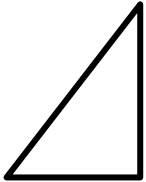
_____ =




_____ =



_____ =



_____ =

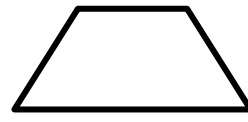
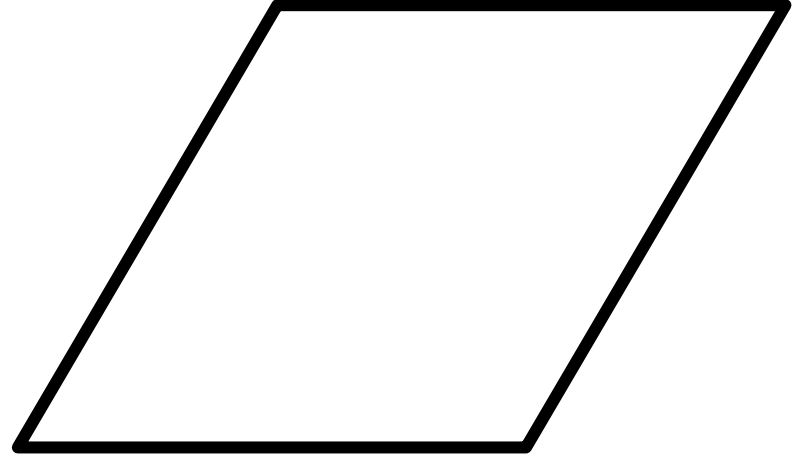


_____ =

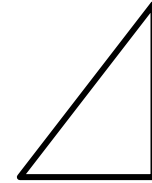


_____ =


9. املأ الشكل المركب بأشكال ثنائية الأبعاد.



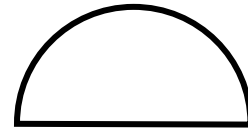
_____ =




_____ =



_____ =



_____ =




_____ =




_____ =


12. املأ النجمة بأشكال ثنائية الأبعاد.



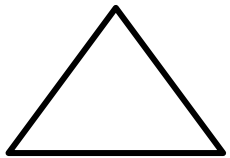
_____ =



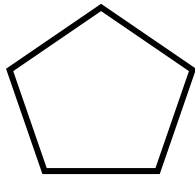
_____ =



_____ =



_____ =


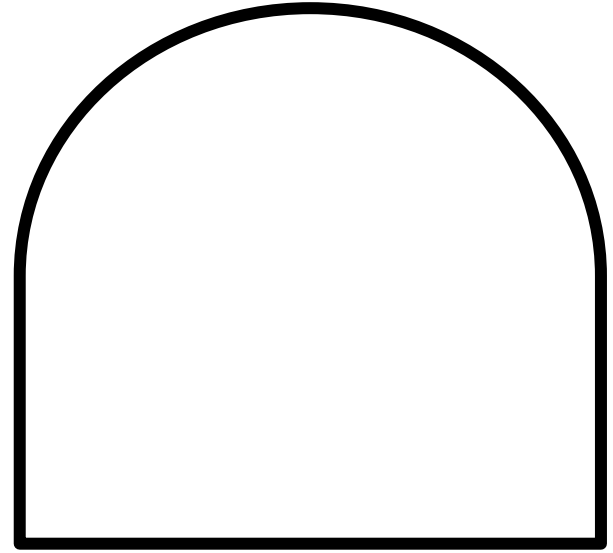


_____ =

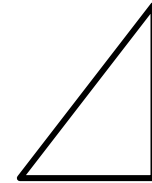


_____ =


11. املأ الشكل المركب بأشكال ثنائية الأبعاد.



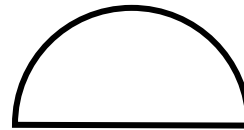
_____ =




_____ =



_____ =



_____ =

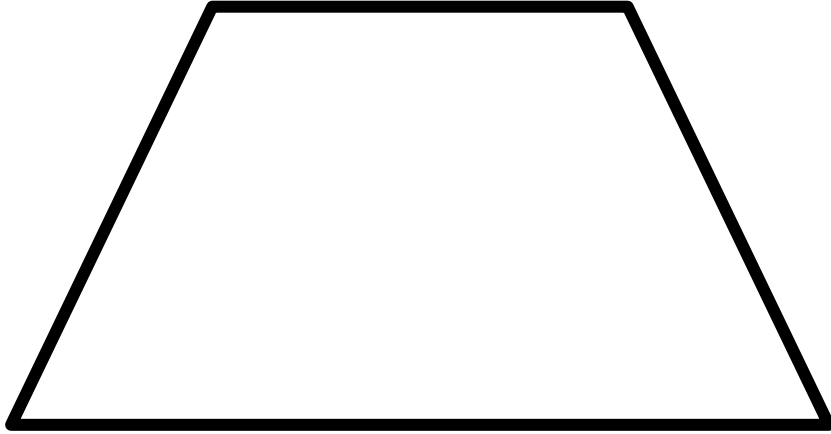


_____ =



_____ =


14. املأ شبه المنحرف بأشكال ثنائية الأبعاد.




www.e-portal.ae 2022 ©



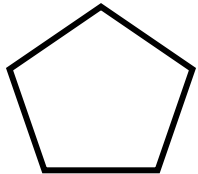
_____ =



_____ =



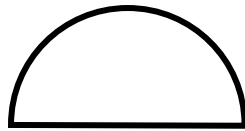
_____ =



_____ =

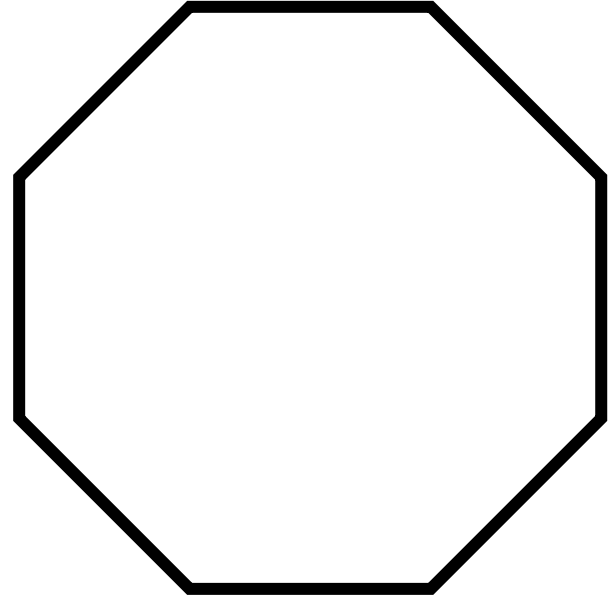


_____ =




_____ =


13. املأ الشكل الثماني بأشكال ثنائية الأبعاد.




www.e-portal.ae 2022 ©



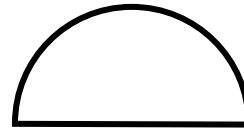
_____ =




_____ =



_____ =



_____ =




_____ =




_____ =


16. املأ الشكل المركب بأشكال ثنائية الأبعاد.



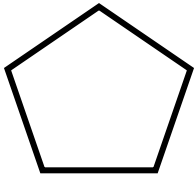
_____ =




_____ =



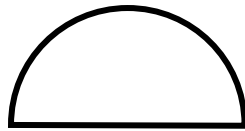
_____ =



_____ =





_____ =




_____ =


15. املأ الشكل الثماني بأشكال ثنائية الأبعاد.



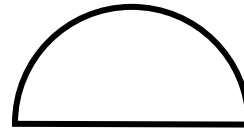
_____ =



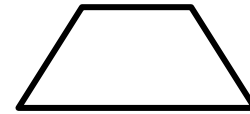
_____ =



_____ =



_____ =


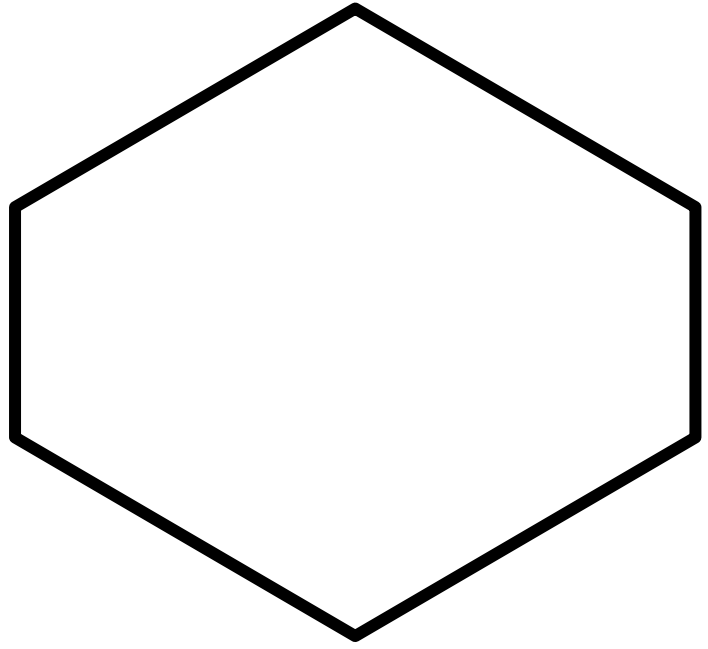


_____ =



_____ =


18. املأ الشكل السداسي بأشكال ثنائية الأبعاد.




www.e-portal.ae 2022 ©



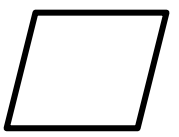
_____ =



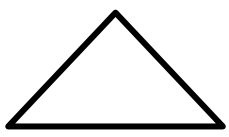
_____ =



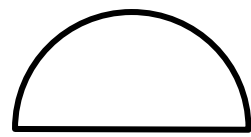
_____ =



_____ =




_____ =




_____ =


17. املأ الشكل المرکب بأشكال ثنائية الأبعاد.




www.e-portal.ae 2022 ©



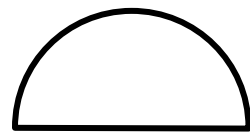
_____ =



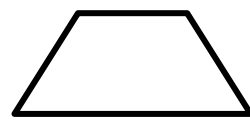
_____ =



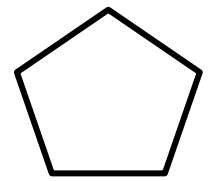
_____ =



_____ =



_____ =



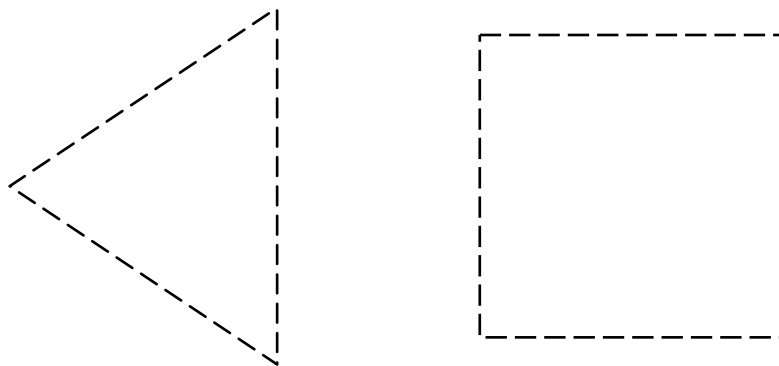
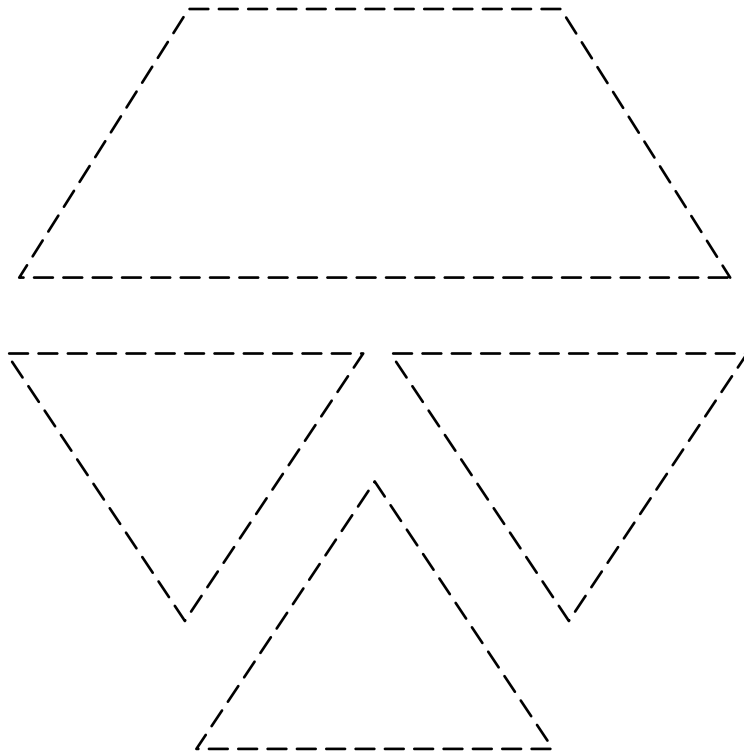
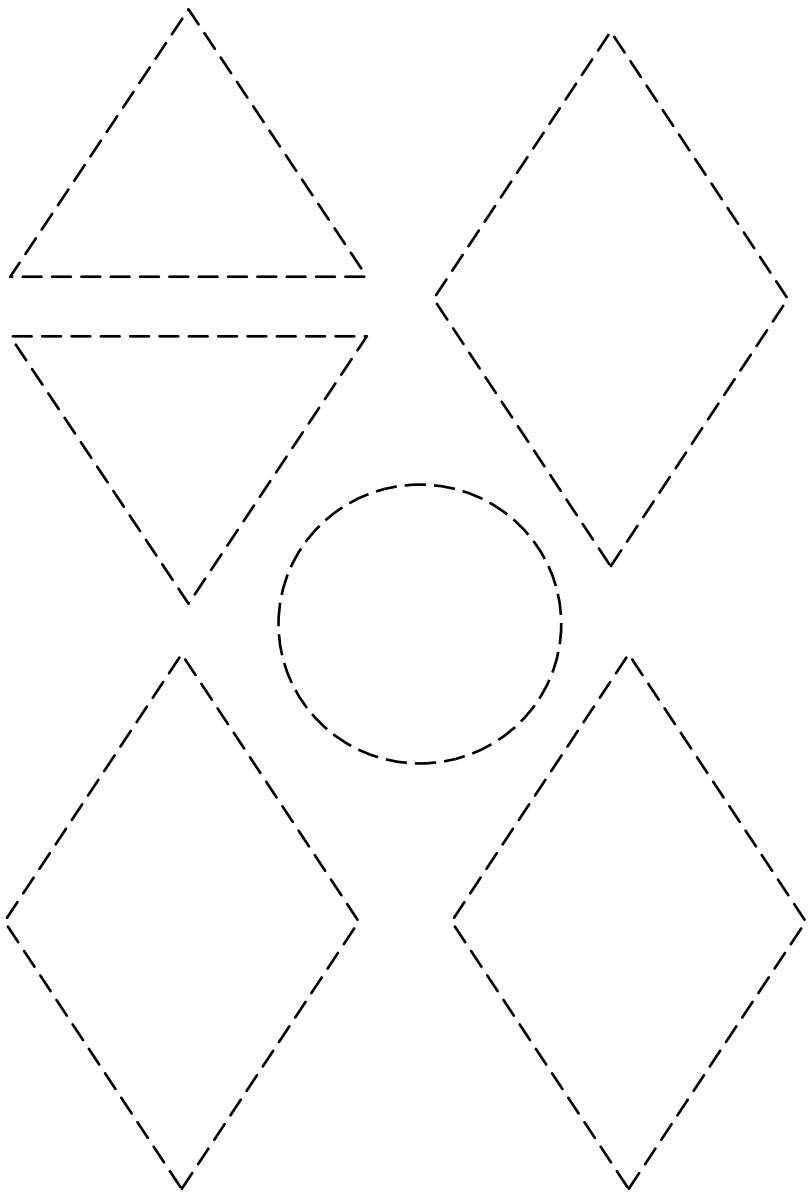
_____ =



.2


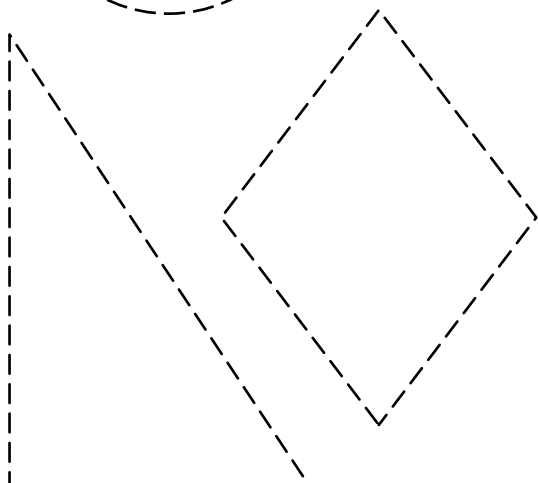
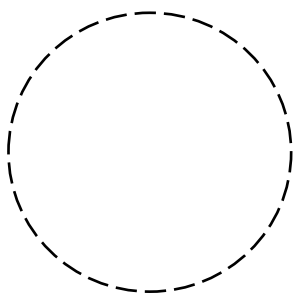
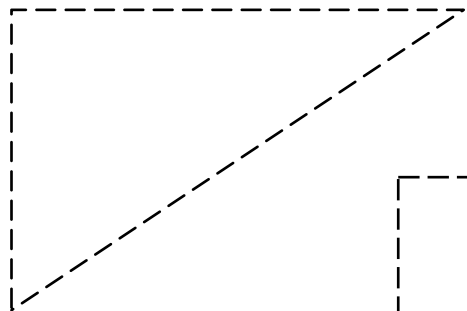






.1

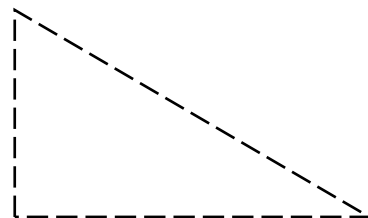
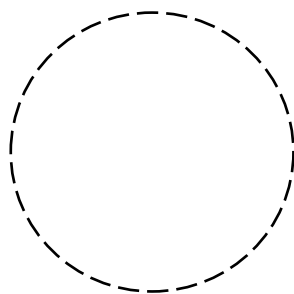
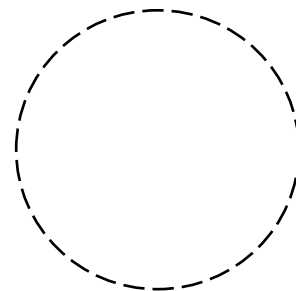
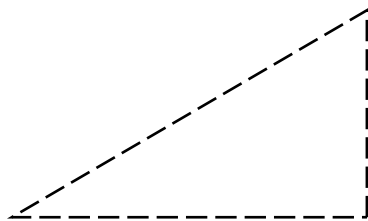




.4



.3

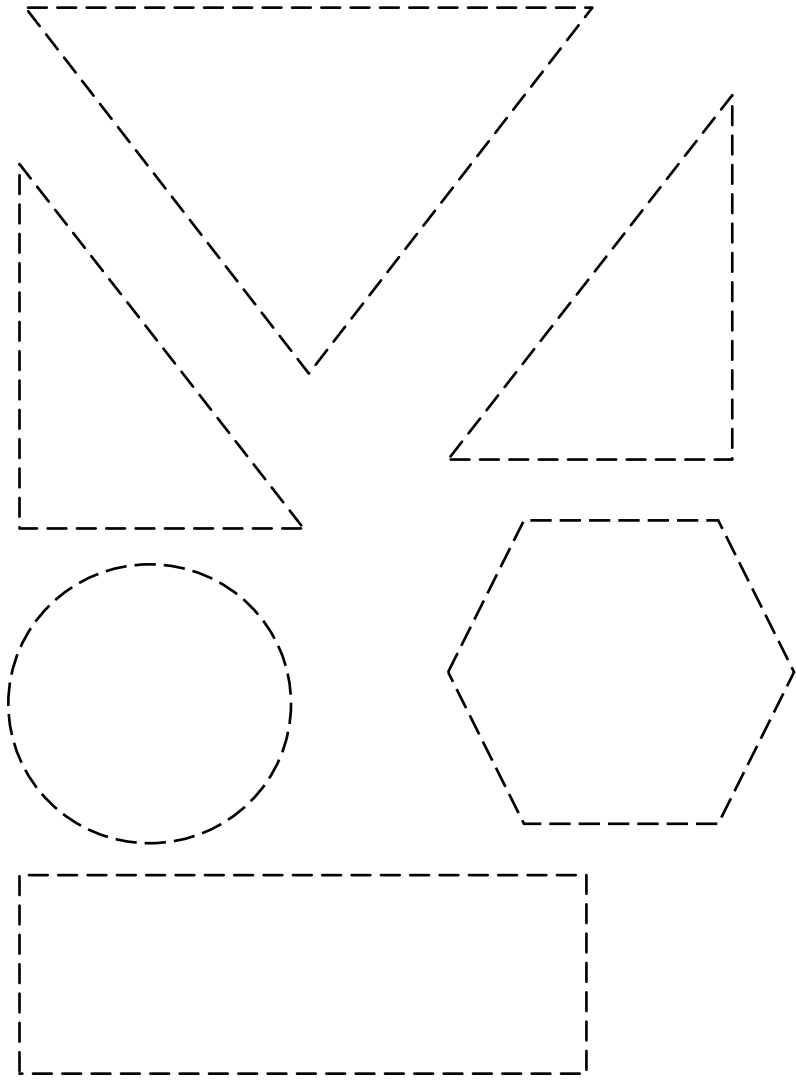
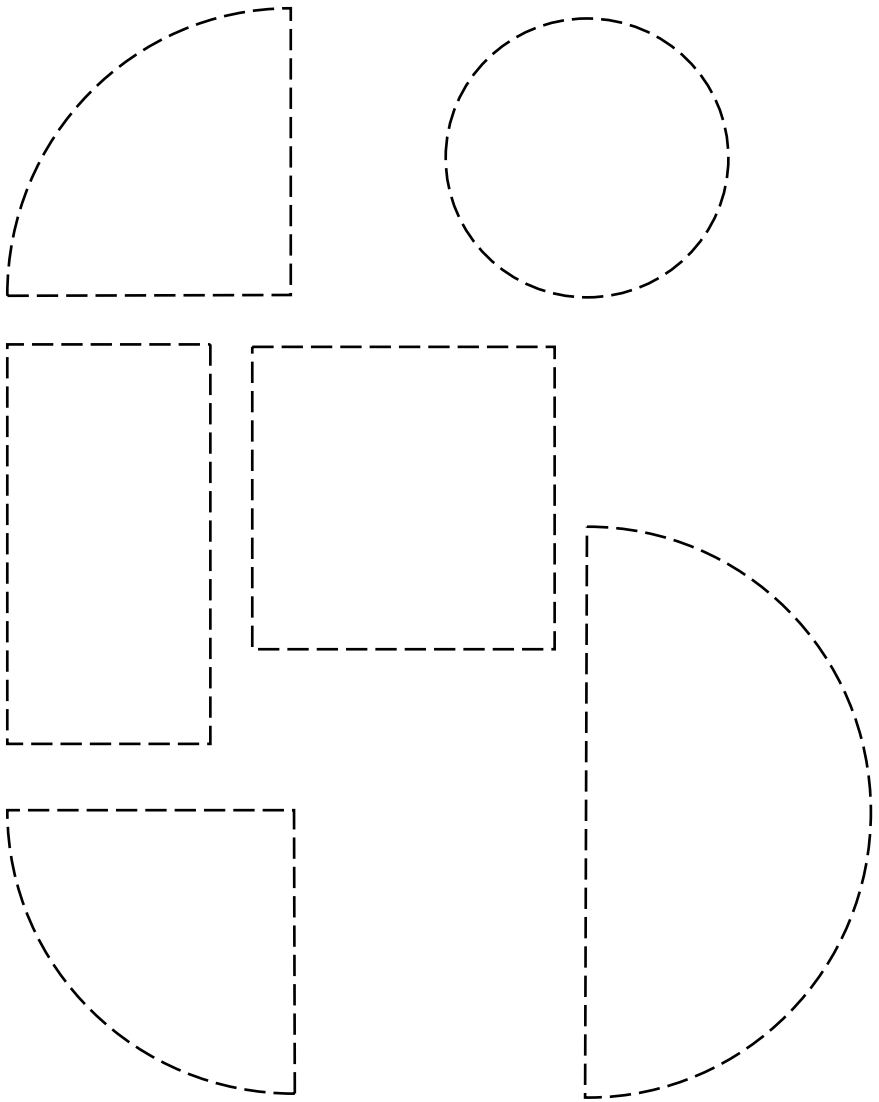




.6

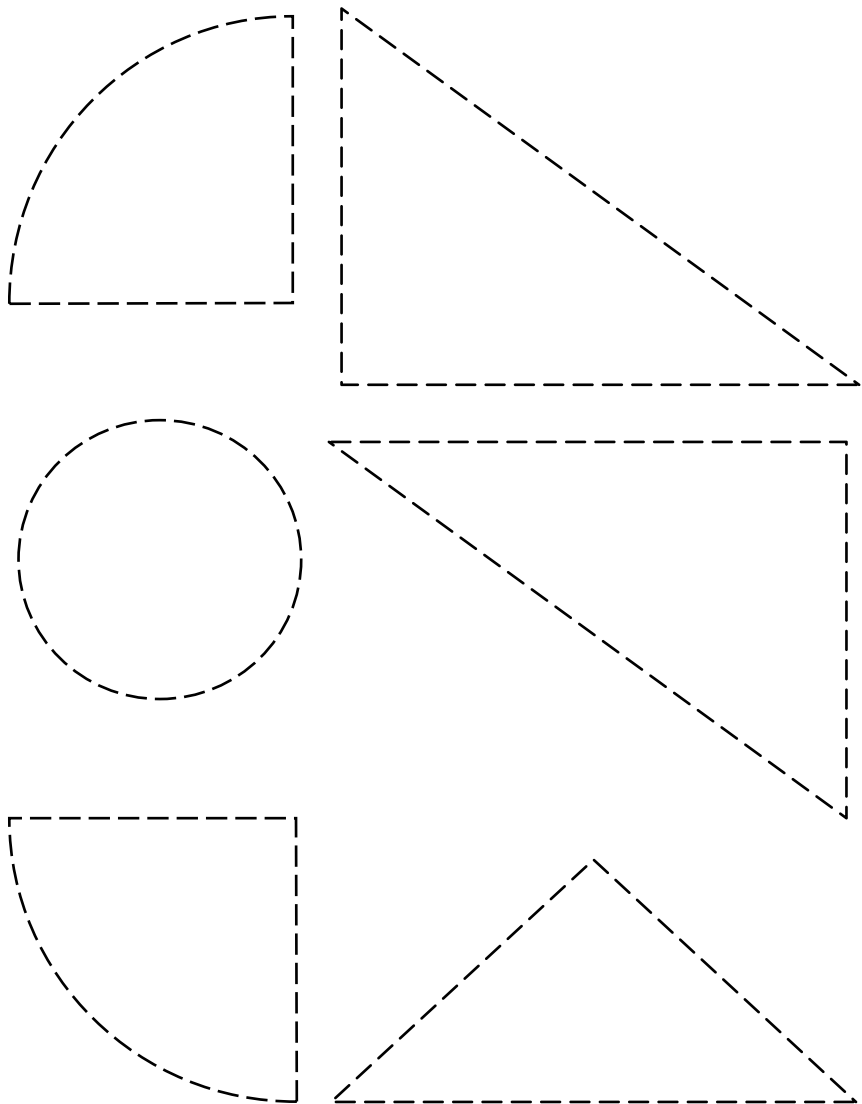


.5

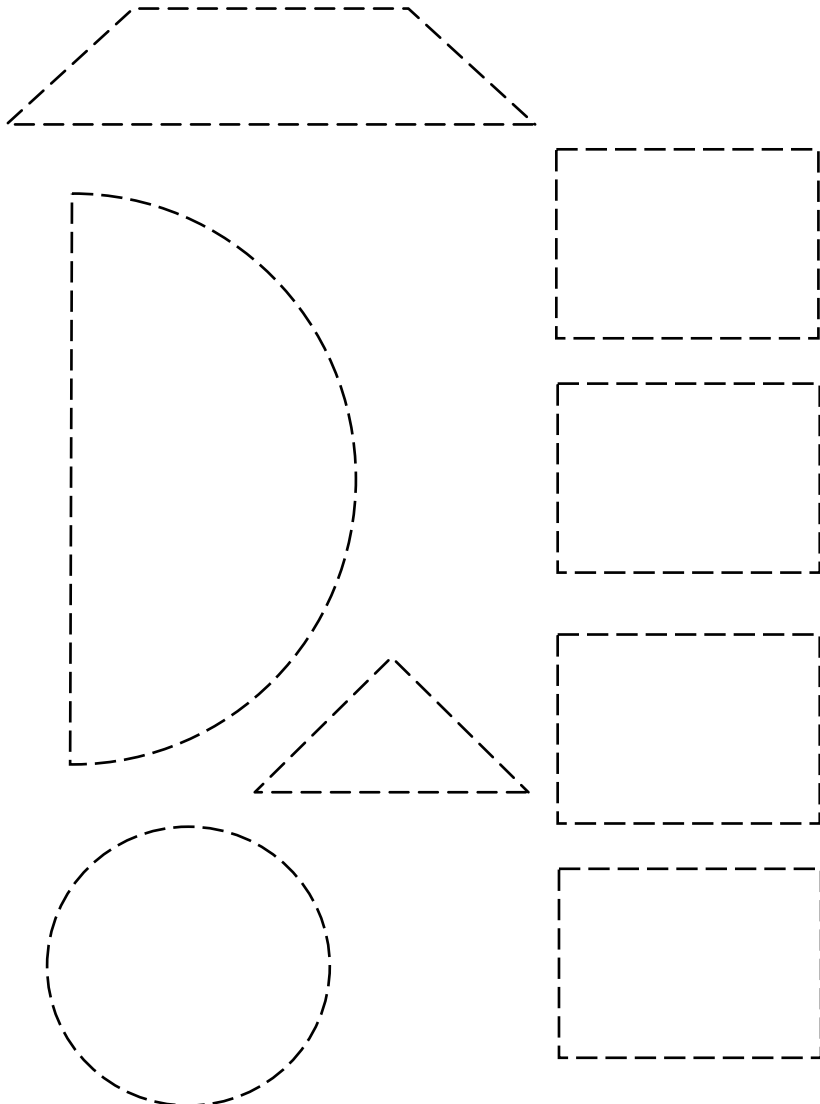




.8

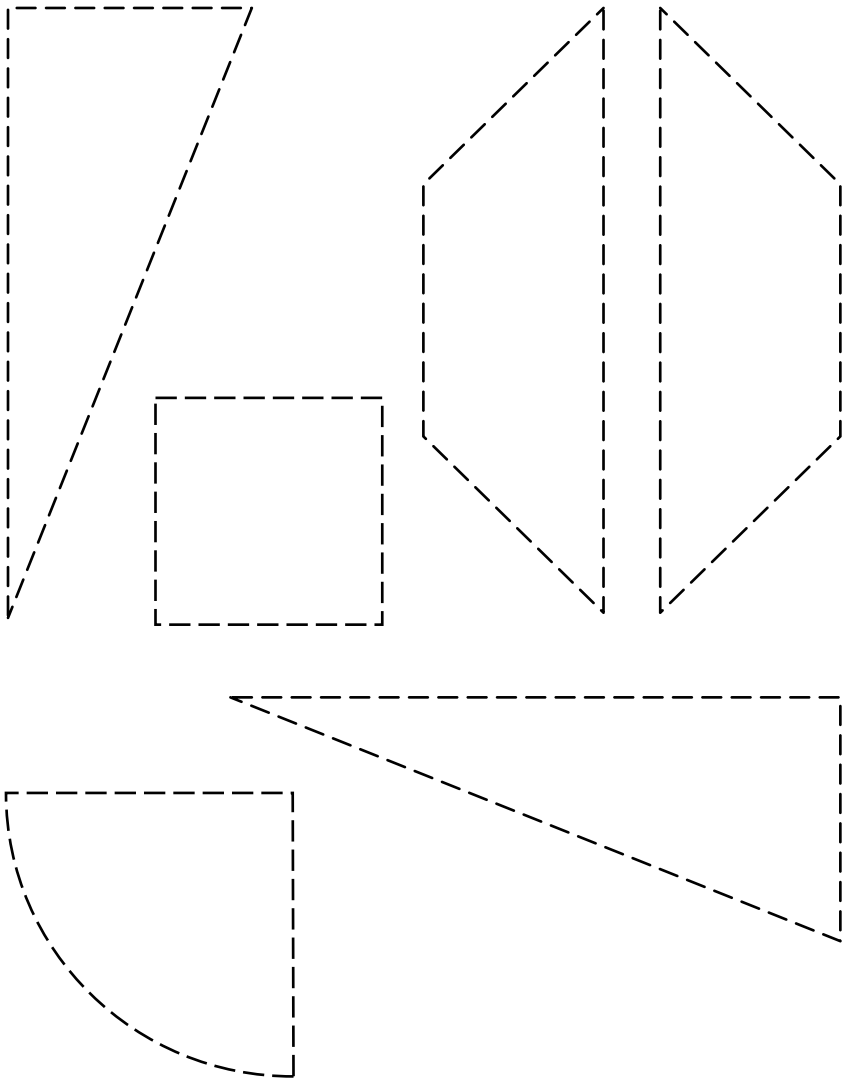


.7






.10



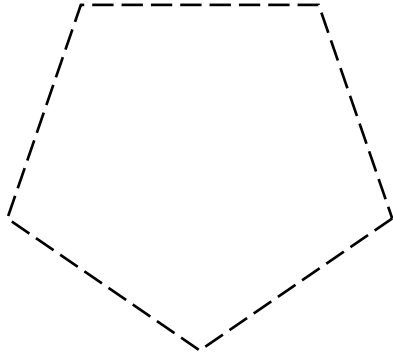
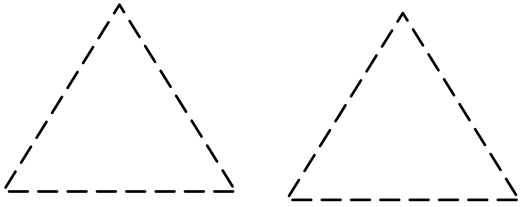


.9

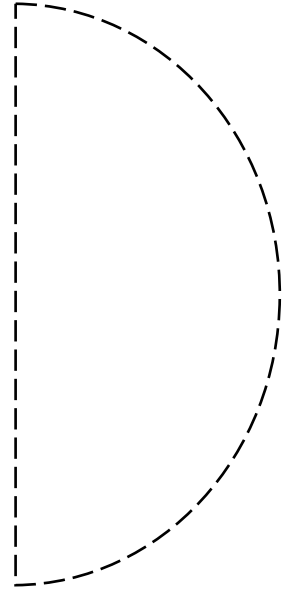
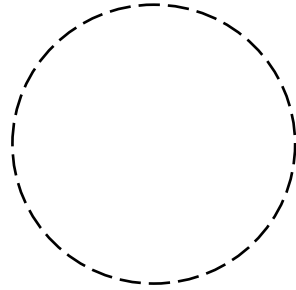
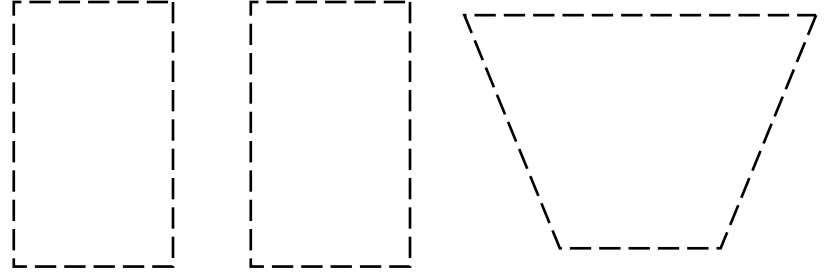




.12

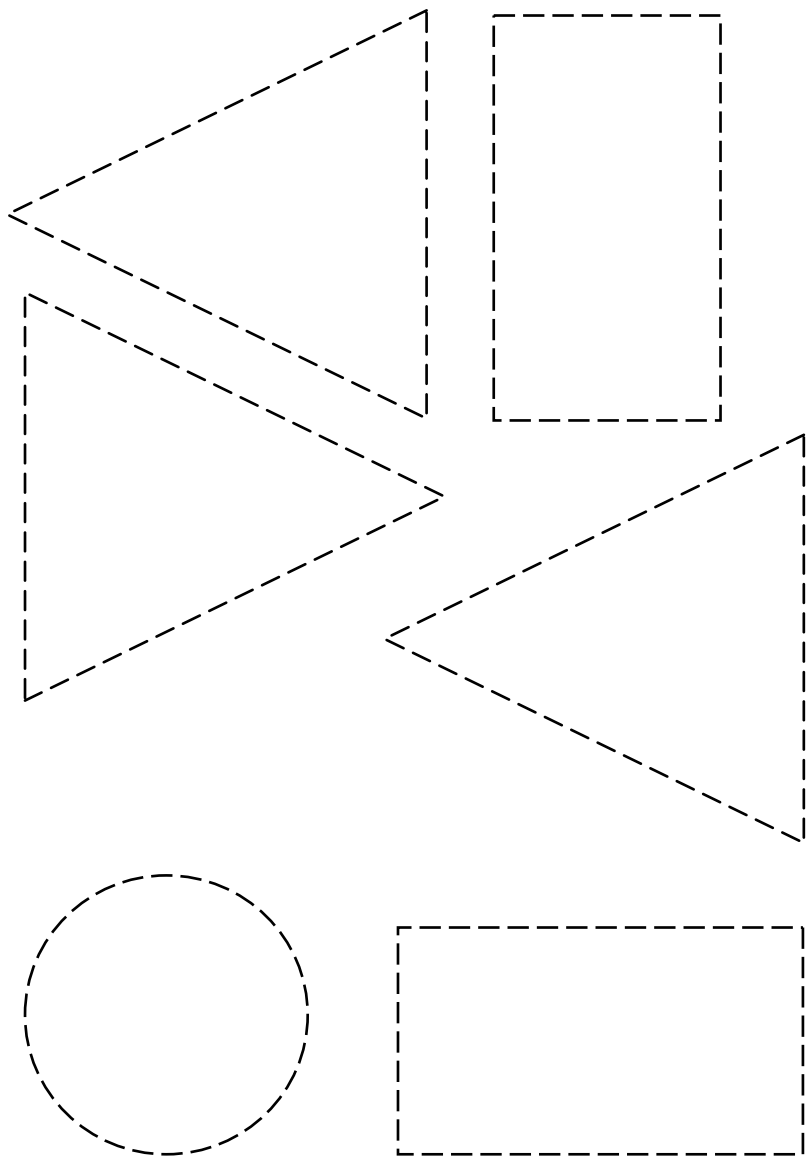


.11

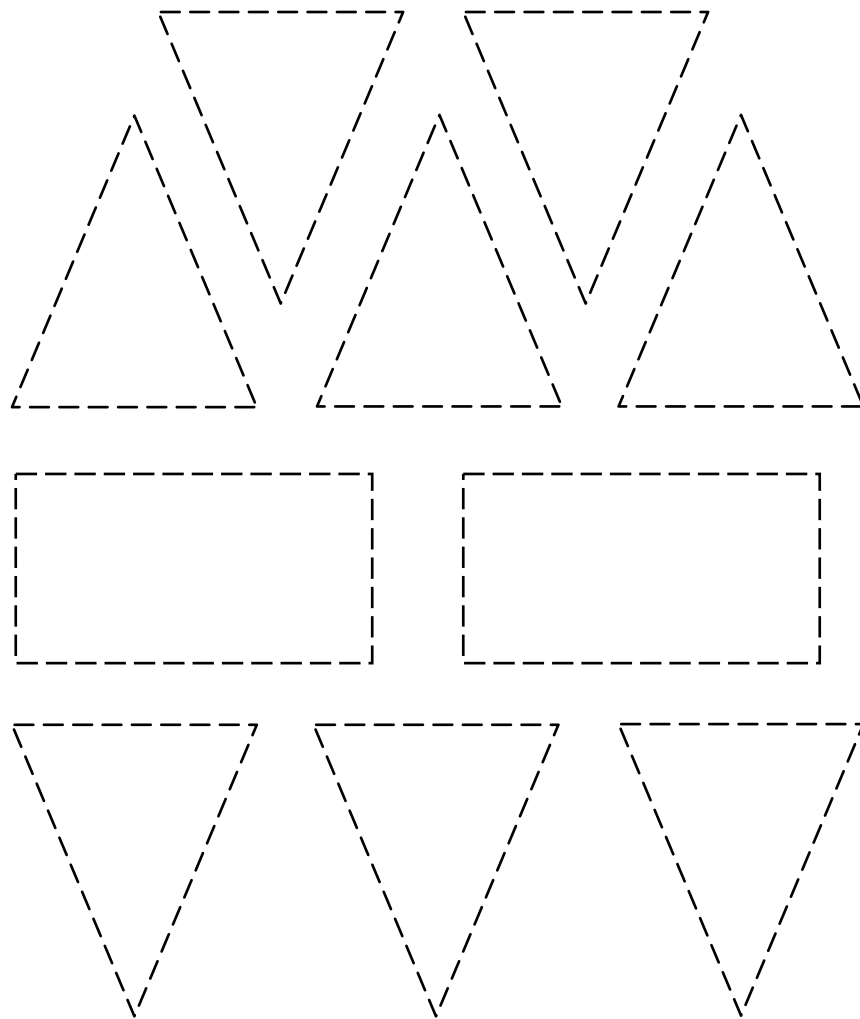




.14

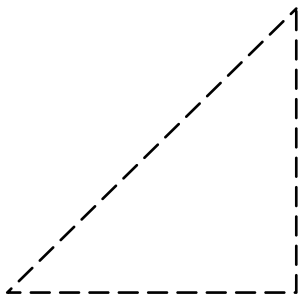
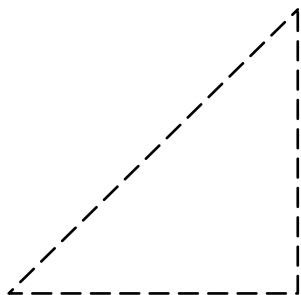
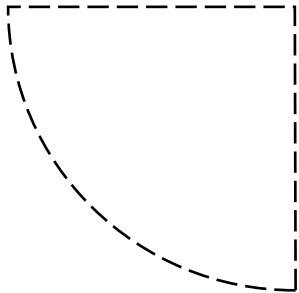
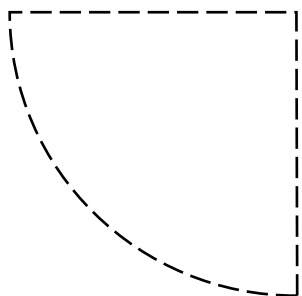
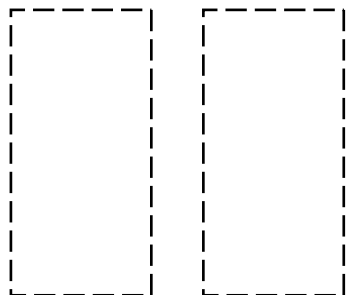
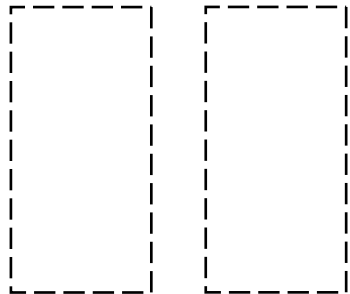


.13


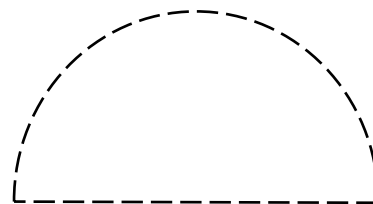
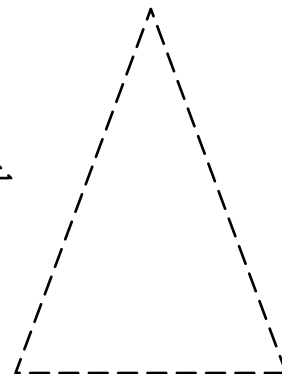




.16

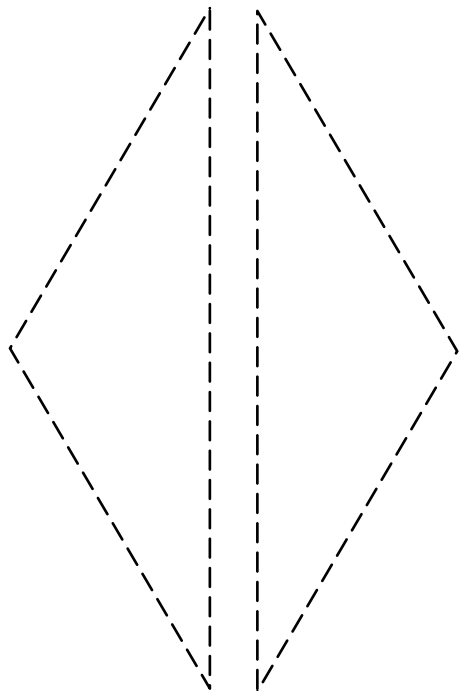



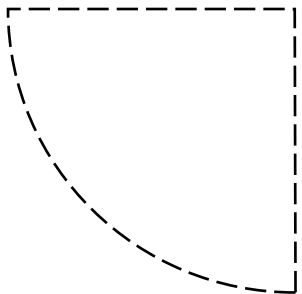
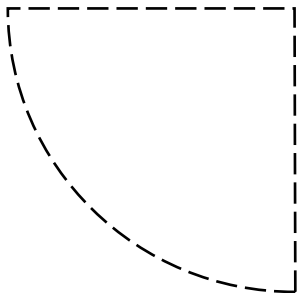


.15

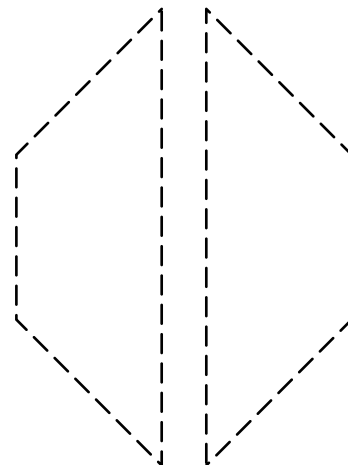
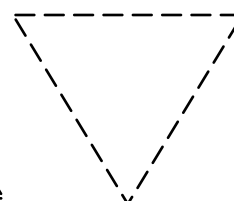
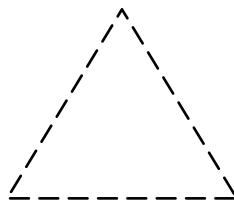

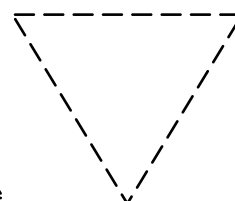
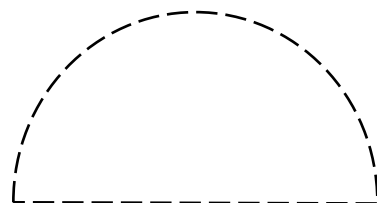




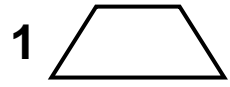
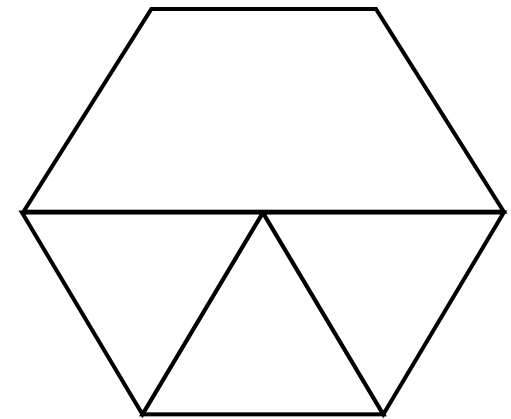
.18



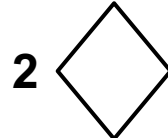
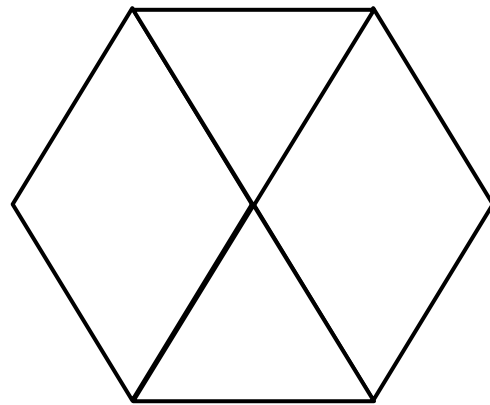
.17



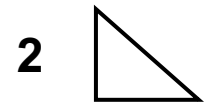
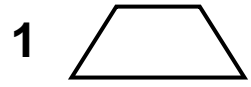
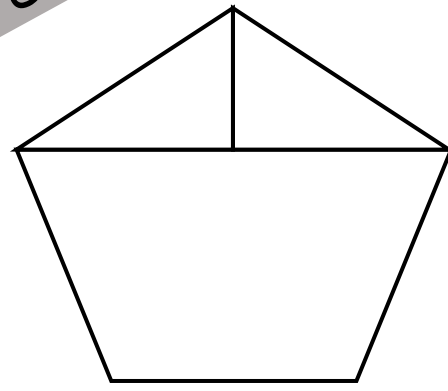
1.



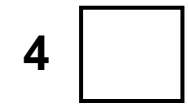
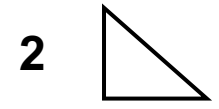
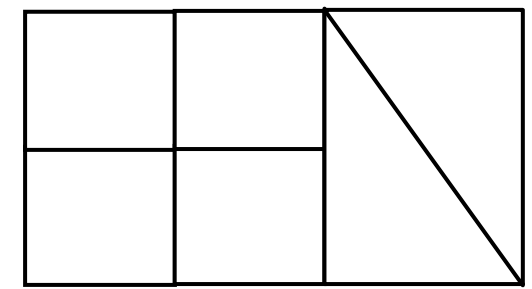
2.



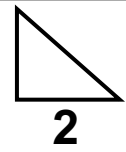
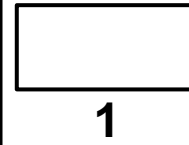
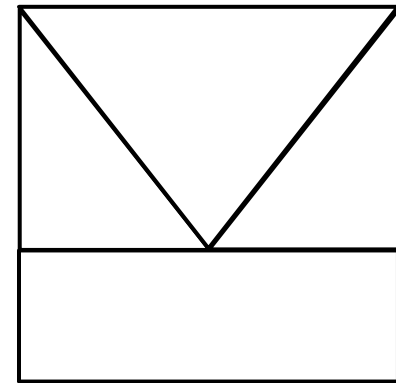
3.



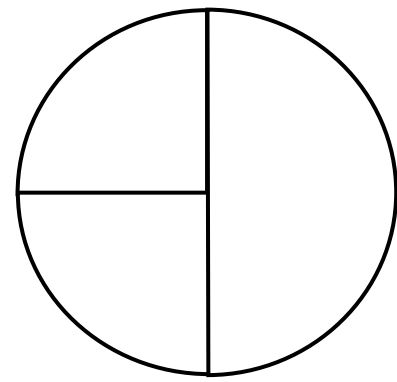
4.



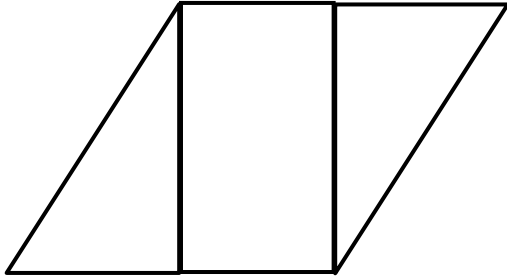
5.

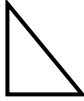



6.

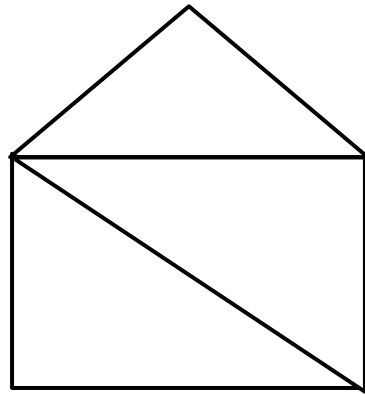



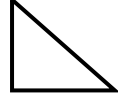
9.



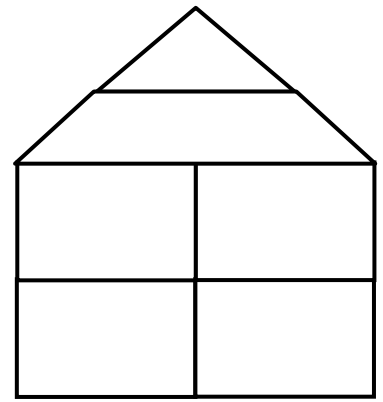
2 	1 
---	---




8.




1 	2 
--	---


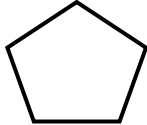
7.



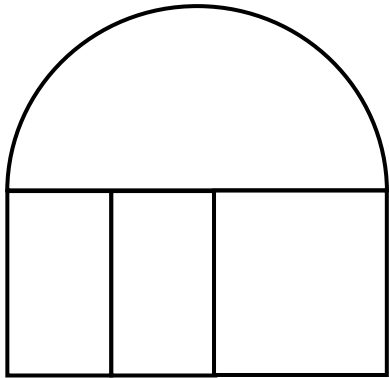
1 	1 	4 
---	---	---




12.



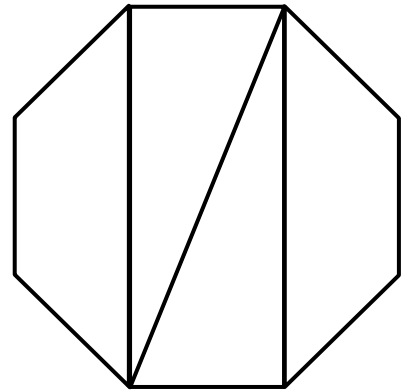
5 	1 
---	---


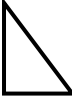
11.



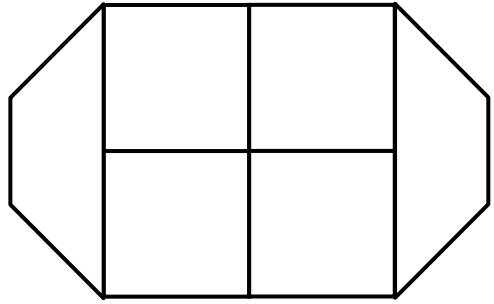
1 	1 	2 
---	--	---



10.



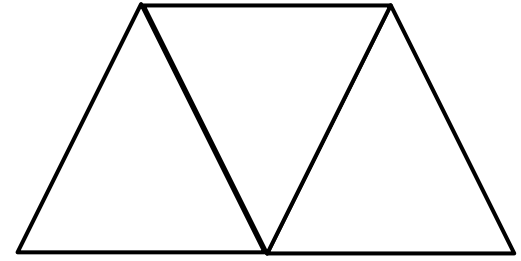
2 	2 
---	---

.15



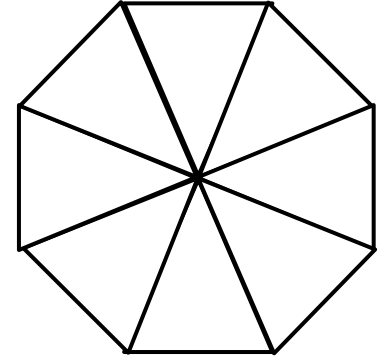
2 	1 
---	---


.14



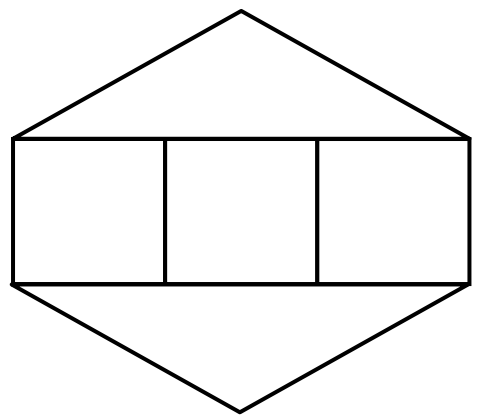
3 
--

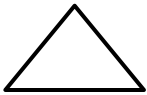

.13



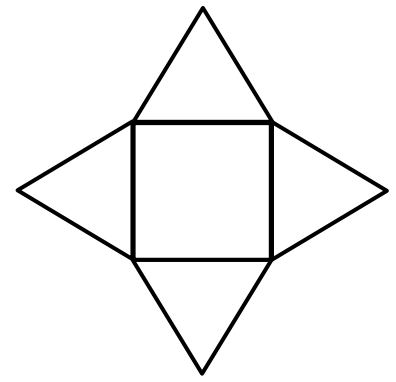
8 


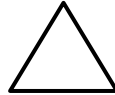
.18



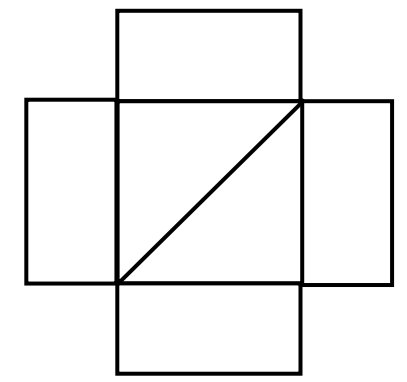
2 	3 
---	---



.17



1 	4 
---	---

.16



4 	2 
---	---

للاطلاع على الملف التوضيحي لموارد الوحدة 9 في رياضيات الصف الأول

[انقر هنا](#)

شروط استخدام منتجات البوابة التعليمية www.e-portal.ae

شكراً جزيلاً على ثقتكم بأعمالنا ودعمكم لنا بشراء منتجات البوابة التعليمية www.e-portal.ae. إن إنشاء وإعداد الوسائل التعليمية هو شغفنا، ويسعدنا جداً أن نرى أعمالنا بين يدي المعلمين والطلاب.

بمجرد شرائك للمورد فإنك توافق على شروط الاستخدام، ويخضع استخدامك لأي مورد السياسة والشروط المنصوص عليها في "شروط استخدام الموارد"، لذا يرجى منك قراءة شروط الاستخدام التالية بعناية.

- جميع موارد البوابة التعليمية من إعداد رفيعه خلفان السويدي، لذا فهي تحتفظ بجميع حقوق الملكية الفكرية لهذه الموارد، وللمشتري حقوق في استخدام هذه الموارد وفق الرخصة الفردية، وتعني بالرخصة الفردية هي للمشتري حق في استخدام المورد وفق الاستخدام المسموح لـ "شروط استخدام الموارد" بصفته فرد مشتري للمورد، وتذكر أنه عند شرائك للمنتج فإنك تشتري ترخيص فردي، أي استخدام المورد لشخص واحد فقط، إذا رغبت بمشاركة معلم آخر للمورد عليك أن تشتري ترخيص إضافي له.
- الموارد في البوابة التعليمية نوعان من حيث الصيغة، PDF و Ppsx، فعند شرائك لموارد البوابة التعليمية، فإنك ستحتفظ بهذه الملفات في حسابك في الموقع من خلال "ملفاتي"، فالوارد التي هي بصيغة PDF ستتمكن من الاحتفاظ بها مدى الحياة في الموقع وطباعتها في أي وقت وفق الاستخدام المسموح والمنصوص عليه في شروط استخدام الموارد، بينما المنتجات التي هي بصيغة Ppsx ستتمكن من تنزيلها على جهازك بهدف عرضها واستخدامها مع طلابك وفق الاستخدام المسموح والمنصوص عليه في شروط استخدام الموارد.

الاستخدام المسموح: بصفتك مشتري لترخيص فردي، سيسمح لك:

أ. استخدام المنتج في غرفة التعلم لأغراض تعليمية.

ب. يُسمح لك كمعلم بتصوير المنتج أثناء استخدامه من قبل طلابك وكذلك نشر الصور إن كان هدفك بيان فائدة المنتج أو إظهار إبداعك في التدريس.

ج. طباعة وعمل نسخ للموارد وتزويدها لطلابك ومساعدتي الفصل والمعلم البديل حسب الضرورة.

الاستخدام غير المسموح: بصفتك مشتري لترخيص فردي:

أ. لا يجوز إرسال أو مشاركة المنتج سواء يدوياً أو إلكترونياً مع معلمين آخرين، أو أصدقاء، وغيرهم والذي يعتبر انتهاكاً لقانون الاستخدام، عدا المنتجات المجانية.

ب. يحظر نسخ المنتج أو أي جزء منه ووضعه على الانترنت بأي شكل من الأشكال، (حتى إن كان موقعاً شخصياً أو موقع مدرسة، أو مدونة صف، أو أحد مواقع التواصل الاجتماعي).

ج. يحظر استخدام المنتج لأغراض تجارية، مثل شراء المنتج وطباعته بهدف بيعه، كما لا يجوز لك دمج المنتج أو جزء منه مع منتج آخر وبيعه.

د. لا يجوز مسح أو شطب جملة (جميع الحقوق محفوظة © البوابة التعليمية) أو اسم الموقع أو شعار الموقع إن وجد من على المنتج.

سيتم اتخاذ الإجراءات القانونية ورفع دعوى قضائية على من ينتهك سياسة ترخيص الموارد والمنصوص عليها تحت "شروط استخدام الموارد".

للتواصل والاستفسار: info@e-portal.ae

يسرنا تواصلكم وشكراً لثقتكم مرة أخرى

رفيعه السويدي

جميع الحقوق محفوظة ©
تُباع النسخة إلكترونياً عبر موقع البوابة التعليمية
www.e-portal.ae