



كُتُبَاتُ الْجَمْعِ ١ - 20

عد، واجمع، وأصق، واكتب

ركن المجموعات
الصغيرة



شروط استخدام منتجات البوابة التعليمية www.e-portal.ae

شكراً جزيلاً على ثقتكم بأعمالنا ودعمكم لنا بشراء منتجات البوابة التعليمية www.e-portal.ae. إن إنشاء وإعداد الوسائل التعليمية هو شغفنا، ويسعدنا جداً أن نرى أعمالنا بين يدي المعلمين والطلاب. بمجرد شرائك للمورد فإنك توافق على شروط الاستخدام، ويخضع استخدامك لأي مورد السياسة والشروط المنصوص عليها في "شروط استخدام الموارد"، لذا يرجى منك قراءة شروط الاستخدام التالية بعناية.

1. جميع موارد البوابة التعليمية من إعداد رفيعه خلفان السويدي، لذا فهي تحتفظ بجميع حقوق الملكية الفكرية لهذه الموارد، وللمشتري حقوق في استخدام هذه الموارد وفق الرخصة الفردية، ونعني بالرخصة الفردية هي للمشتري حق في استخدام المورد وفق الاستخدام المسموح لـ "شروط استخدام الموارد" بصفته فرد مشتري للمورد، وتذكر أنه عند شرائك للمنتج فإنك تشتري ترخيص فردي، أي استخدام المورد لشخص واحد فقط، إذا رغبت بمشاركة معلم آخر للمورد عليك أن تشتري ترخيص إضافي له.
2. الموارد في البوابة التعليمية نوعان من حيث الصيغة، PDF و Ppsx. فعند شرائك موارد البوابة التعليمية، فإنك ستحتفظ بهذه الملفات في حسابك في الموقع من خلال "ملفاتي"، فالموارد التي هي بصيغة PDF ستتمكن من الاحتفاظ بها مدى الحياة في الموقع وطباعتها في أي وقت وفق الاستخدام المسموح والمنصوص عليه في شروط استخدام الموارد، بينما المنتجات التي هي بصيغة Ppsx ستتمكن من تنزيلها على جهازك بهدف عرضها واستخدامها مع طلابك وفق الاستخدام المسموح والمنصوص عليه في شروط استخدام الموارد.

الاستخدام المسموح: بصفتك مشتري لترخيص فردي، سيسمح لك:

- أ. استخدام المنتج في غرفة التعلم لأغراض تعليمية.
 - ب. يُسمح لك كمعلم بتصوير المنتج أثناء استخدامه من قبل طلابك وكذلك نشر الصور إن كان هدفك بيان فائدة المنتج أو إظهار إبداعك في التدريس.
 - ج. طباعة وعمل نسخ للموارد وتزويدها لطلابك ومساعدتي الفصل والمعلم البديل حسب الضرورة.
- ### **الاستخدام غير المسموح:** بصفتك مشتري لترخيص فردي:
- أ. لا يجوز إرسال أو مشاركة المنتج سواء يدوياً أو إلكترونياً مع معلمين آخرين، أو أصدقاء، وغيرهم والذي يعتبر انتهاكاً لقانون الاستخدام، عدا المنتجات المجانية.
 - ب. يحظر نسخ المنتج أو أي جزء منه ووضعه على الانترنت بأي شكل من الأشكال، (حتى إن كان موقعاً شخصياً أو موقع مدرسة، أو مدونة صف، أو أحد مواقع التواصل الاجتماعي).
 - ج. يحظر استخدام المنتج لأغراض تجارية، مثل شراء المنتج وطباعته بهدف بيعه، كما لا يجوز لك دمج المنتج أو جزء منه مع منتج آخر وبيعه.
 - د. لا يجوز مسح أو شطب جملة (جميع الحقوق محفوظة © 2020 البوابة التعليمية) أو اسم الموقع أو شعار الموقع إن وجد من على المنتج.
- سيتم اتخاذ الإجراءات القانونية ورفع دعوى قضائية على من ينتهك سياسة ترخيص الموارد والمنصوص عليها تحت "شروط استخدام الموارد".

للتواصل والاستفسار: info@e-portal.ae

يسرنا تواصلكم وشكراً لثقتكم مرة أخرى
رفيعه السويدي

كُتَيْبَاتُ الْجَمْعِ

عد، واجمع، وأصق، واكتب!
من العدد 1 إلى العدد 20

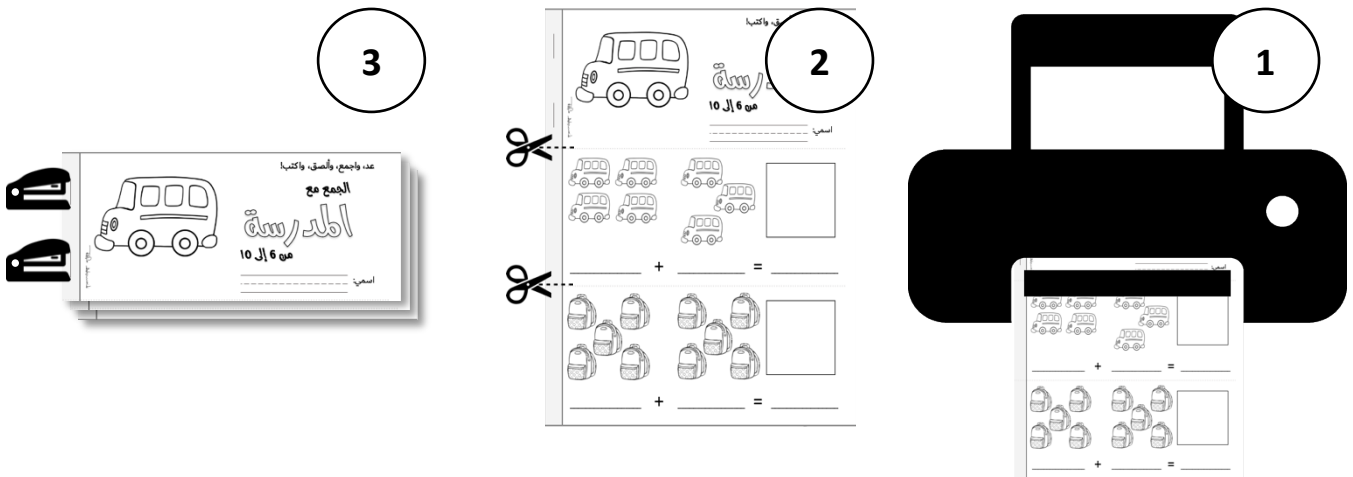
تعد كتيبات الرياضيات طريقة ممتعة وتفاعلية لمساعدة الطلاب على حل مشكلات الجمع والطرح البسيطة، ويتكون كل كتيب من 12 صفحة على مجموعة محددة من الأعداد، وفي نهاية الكتيب توجد الإجابات وهي عبارة عن أعداد للقص واللصق في مربع الإجابة.

هذه الحزمة العملية ستخلق للأطفال متعة في تعلم الرياضيات، فالأطفال يحبون إنشاء كتيبات الرياضيات المصغرة الخاصة بهم، كما أنهم يحبون القص واللصق والتلوين.

تحتوي هذه الحزمة على:

- الجمع مع الحيوانات (من 1 إلى 6).
- الجمع مع المدرسة (من 6 إلى 11).
- الجمع مع الحلويات (من 11 إلى 16).
- الجمع مع الحشرات (من 16 إلى 20).

خطوات صنع الكتيب:








عد، واجمع، وأصق، واكتب!

الجمع مع




الحيوانات

من 1 إلى 6




اسمي:






_____ + _____ = _____




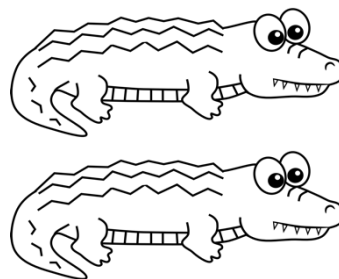
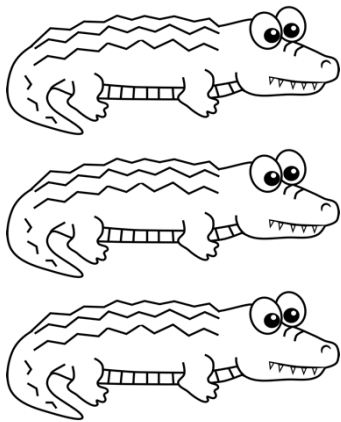
_____ + _____ = _____






_____ + _____ = _____






_____ + _____ = _____





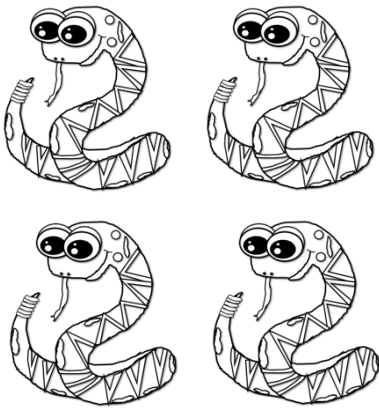
_____ + _____ = _____





_____ + _____ = _____





_____ + _____ = _____



_____ + _____ = _____



_____ + _____ = _____



_____ + _____ = _____

2

3

3

4

4

4

5

5

5

5





عد، واجمع، وألصق، واكتب!

الجمع مع


املد ستة

من 6 إلى 11


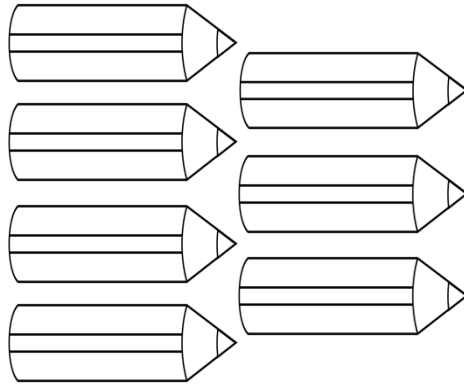
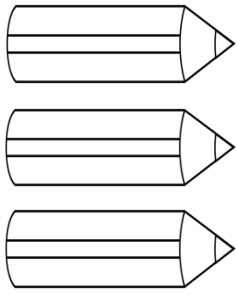
اسمي:




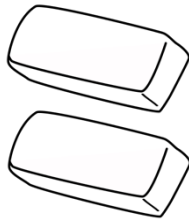
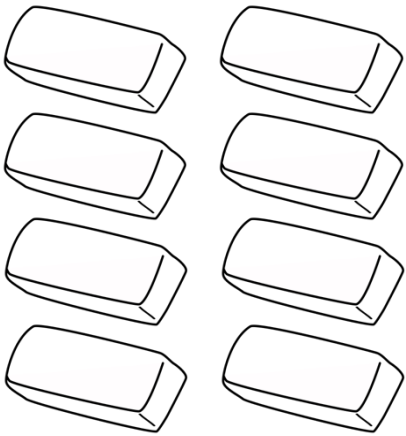
_____ + _____ = _____




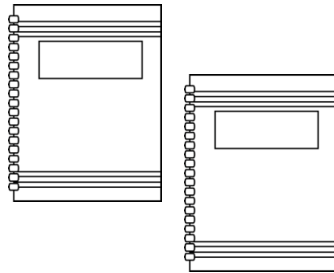

_____ + _____ = _____






_____ + _____ = _____





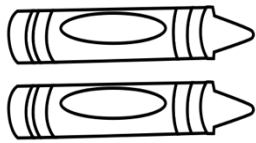
_____ + _____ = _____




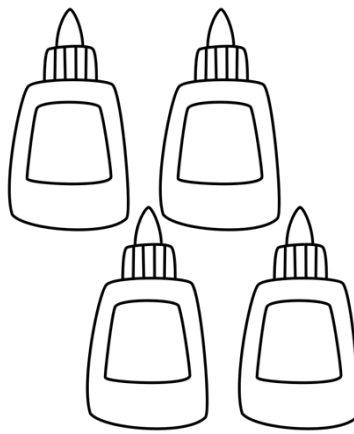
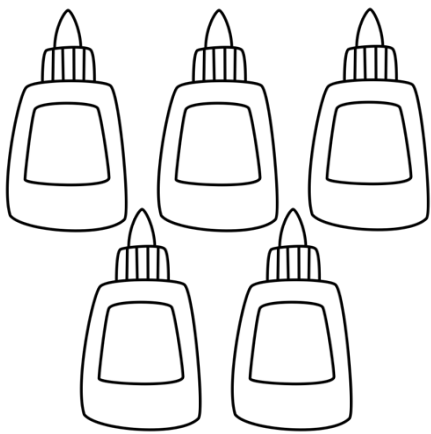
_____ + _____ = _____




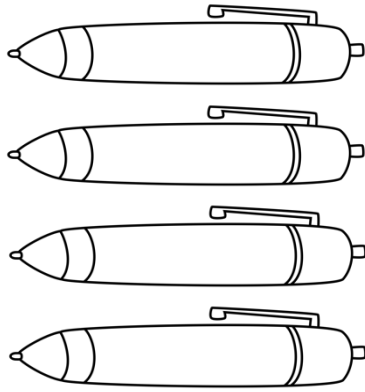
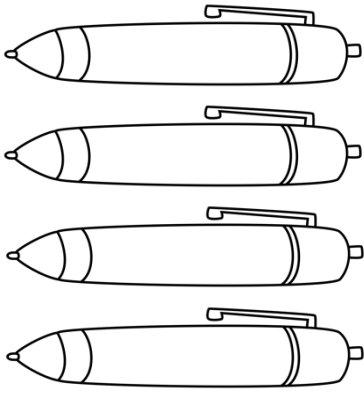
_____ + _____ = _____






_____ + _____ = _____



_____ + _____ = _____



_____ + _____ = _____



_____ + _____ = _____

6

7

7

8

8

9

9

10

10

10



عد، واجمع، وألصق، واكتب!

الجمع مع

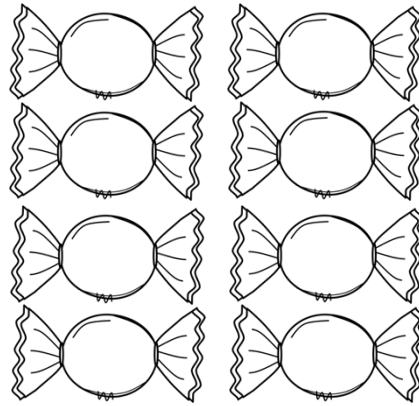
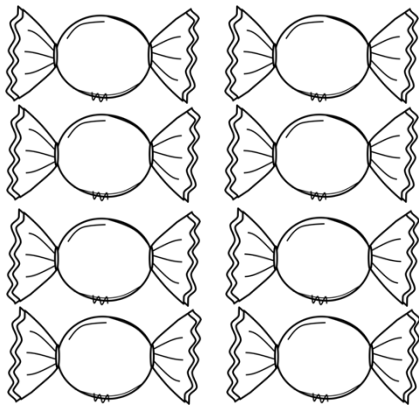
الحلويات

من 11 إلى 16



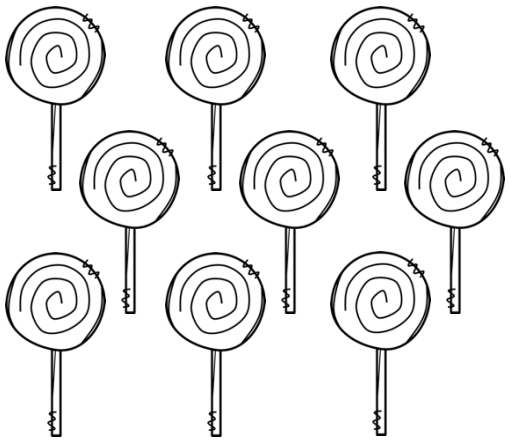
اسمي:





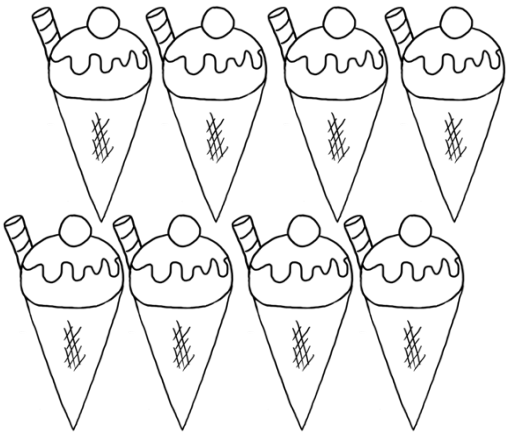
_____ + _____ = _____




_____ + _____ = _____




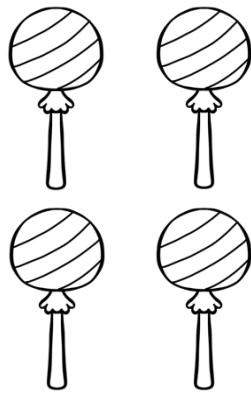

_____ + _____ = _____






_____ + _____ = _____




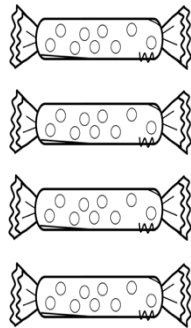
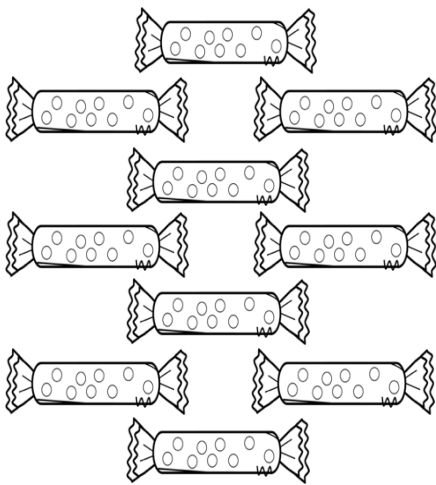
_____ + _____ = _____






_____ + _____ = _____




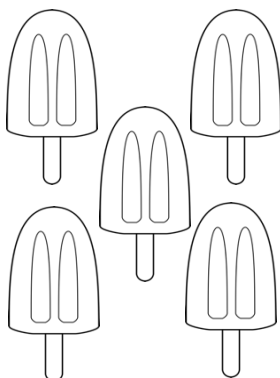

_____ + _____ = _____



_____ + _____ = _____



_____ + _____ = _____



_____ + _____ = _____

11

12

12

13

13

14

14

15

15

15


عد، واجمع، وألصق، واكتب!

الجمع مع




الحشرات

من 16 إلى 20




اسمي:






Amal Al-Sayid






_____ + _____ = _____






_____ + _____ = _____






_____ + _____ = _____






_____ + _____ = _____






_____ + _____ = _____





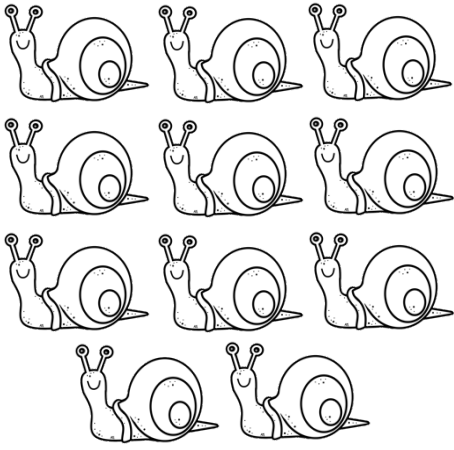
_____ + _____ = _____





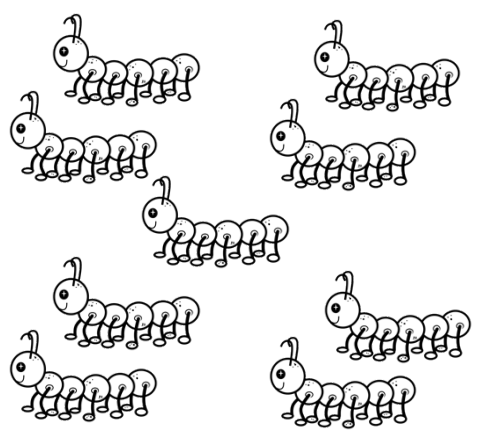
_____ + _____ = _____



_____ + _____ = _____



_____ + _____ = _____



_____ + _____ = _____

16

16

17

17

18

18

19

19

20

20

